



GOVERNMENT OF INDIA : : DEPARTMENT OF SPACE
INDIAN SPACE RESEARCH ORGANISATION

ISRO Centralised Recruitment Board

Written Test for recruitment to the post of LVD-A/HVD-A /SCD-A, 2017

Test Booklet			A
Date	November 26, 2017 (Sunday)		
Time	1000 Hrs. to 1200 Hrs		
Parts	Type of questions	No. of questions	Marks (one mark each)
Part 'A'	QUESTIONS BASED ON MOTOR VEHICLES ACT, 1939 as amended from time to time	50	50 marks
Part 'B'	ENGLISH	15	15 marks
Part 'C'	ARITHMETIC	15	15 marks
Part 'D'	GENERAL KNOWLEDGE	20	20 marks
TOTAL		100 questions	100 marks
No. of Pages (Other than cover sheet) :		35 pages	


Instructions to the candidate

1. प्रश्न पत्र परीक्षा पुस्तिका के रूप में होता है। सभी प्रत्याशियों का मूल्यांकन समरूपी प्रश्नों पर होगा।
The question paper is in the form of test booklet. All candidates will be assessed on identical questions.
ಪ್ರಶ್ನೆಪತ್ರಿಕೆಯು ಪರೀಕ್ಷಾ ಪುಸ್ತಕದ ರೂಪದಲ್ಲಿದೆ. ಎಲ್ಲಾ ಅಭ್ಯರ್ಥಿಗಳನ್ನೂ ಸಮರೂಪ ಪ್ರಶ್ನೆಗಳಿಂದ ಮೌಲ್ಯಾಂಕ ಮಾಡಲಾಗುವುದು.
2. उत्तर देने के लिए सभी प्रत्याशियों को पार्ट 'A' से पार्ट 'D' के लिए पृथक OMR उत्तर पत्र प्रदान किया गया है।
A separate OMR answer sheet is provided to all candidates for answering Part 'A' to Part 'D'.
ಭಾಗ A ಯಿಂದ ಭಾಗ D ವರೆಗಿನ ಪ್ರಶ್ನೆಗಳನ್ನು ಉತ್ತರಿಸುವುದಕ್ಕಾಗಿ ಎಲ್ಲಾ ಅಭ್ಯರ್ಥಿಗಳಿಗೂ ಪ್ರತ್ಯೇಕ OMR ಉತ್ತರ ಹಾಳೆಯನ್ನು ನೀಡಲಾಗುವುದು.
3. प्रत्येक वस्तु निष्ठ प्रश्न के लिए बहुल उत्तर, विकल्पों (a), (b), (c) और (d) सहित पाठ या अंक जहाँ सायूहो प्रदान किए गए हैं। उसमें केवल एक सही है।
Each objective question is provided with a text and/or figures wherever applicable with **multiple answer choices (a), (b), (c) and (d)**. Only one of them is correct.
ಪ್ರತಿಯೊಂದು ಆಯ್ಕೆ ಪ್ರಶ್ನೆಗೂ ಅನ್ವಯಾನುಸಾರ ಪಠ್ಯರೂಪದ ಮತ್ತು/ಅಥವಾ ಅಂಕಗಳ ಬಹು-ಉತ್ತರ ಆಯ್ಕೆಗಳನ್ನು (a), (b), (c) ಮತ್ತು (d) ನೀಡಲಾಗಿದೆ. ಅವುಗಳಲ್ಲಿ ಕೇವಲ ಒಂದು ಮಾತ್ರ ಸರಿಯಾಗಿದೆ.
4. OMR पत्र पर दिए अनुदेशों को ध्यान से पढ़ें। OMR पत्र पर लिखने के लिए और अपना उत्तर अंकित करने के लिए केवल काले/नीले स्याही बाल पॉइंट पेन का उपयोग करें।
Read the instructions on the OMR sheet carefully. Use only **Black/Blue Ink ball point pen** for writing on OMR sheet and marking your answers.
OMR ಹಾಳೆಯಲ್ಲಿ ನೀಡಲಾಗಿರುವ ಸೂಚನೆಗಳನ್ನು ಜಾಗರೂಕತೆಯಿಂದ ಓದಿರಿ. OMR ಹಾಳೆಯಲ್ಲಿ ಬರೆಯಲು ಮತ್ತು ನಿಮ್ಮ ಉತ್ತರವನ್ನು ಗುರುತಿಸಲು ಕೇವಲ ಕಪ್ಪು/ನೀಲಿ ಶಾಯಿಯ ಬಾಲ್ ಪಾಯಿಂಟ್ ಪೆನ್‌ನ್ನು ಬಳಸಬೇಕು.
5. सभी वस्तु निष्ठ प्रश्नों के एक सही उत्तर के लिए एक अंक है। उत्तर न देने पर शून्य अंक और एक गलत उत्तर के लिए -0.25 अंक मिलेगा।
All objective type questions carry equal marks of **ONE** for a correct answer, **ZERO** for no answer and **minus 0.25** for a wrong answer.
ಎಲ್ಲಾ ಆಯ್ಕೆ ಪ್ರಕಾರದ ಪ್ರಶ್ನೆಗಳ ಸರಿಯಾದ ಉತ್ತರಕ್ಕೆ ಸಮಾನ ರೀತಿಯಲ್ಲಿ ಒಂದು ಅಂಕವನ್ನು ನೀಡಲಾಗುವುದು. ಉತ್ತರ ನೀಡದಿದ್ದರೆ ಶೂನ್ಯ ಮತ್ತು ತಪ್ಪಾದ ಉತ್ತರಕ್ಕೆ 0.25 ಅಂಕವನ್ನು ಕಳೆಯಲಾಗುವುದು.

BNG

Please see the last page of this booklet for rest of the instructions.



	INDIAN SPACE RESEARCH ORGANISATION	SET A
	WRITTEN TEST FOR RECRUITMENT TO THE POST OF LVD-A/HVD-A/SCD-A, 2017	

PART A — (QUESTIONS 1 TO 50)

1. दिखाये गये संकेत का प्रकार बताएं

- (a) अनिवार्य संकेत
- (b) सावधानी संकेत
- (c) सूचना संकेत
- (d) इनमें से कोई नहीं



Give the type of sign shown.

- (a) Mandatory Sign
- (b) Cautionary Sign
- (c) Informatory Sign
- (d) None of above

ಇಲ್ಲಿ ಕೊಟ್ಟಿರುವ ಚಿಹ್ನೆಯ ವಿಧ ಯಾವುದು?

- (a) ಕಡ್ಡಾಯ ಚಿಹ್ನೆ
- (b) ಎಚ್ಚರಿಕೆ ಚಿಹ್ನೆ
- (c) ಸೂಚನಾತ್ಮಕ ಚಿಹ್ನೆ
- (d) ಮೇಲಿನ ಯಾವುದೂ ಅಲ್ಲ

2. हल्का वाहन चलाने हेतु लर्निंग लाइसेंस प्राप्त करने के लिए कितने वर्ष की आयु तक चिकित्सा प्रमाणपत्र की आवश्यकता नहीं है?


- (a) 18 वर्ष
- (b) 21 वर्ष
- (c) 50 वर्ष
- (d) 60 वर्ष

Upto how many years, medical certificate is not required for obtaining the learning license to drive light motor vehicles?

- (a) 18 years
- (b) 21 years
- (c) 50 years
- (d) 60 years

ಲಘು ಮೋಟಾರ್ ವಾಹನಗಳನ್ನು ಚಲಾಯಿಸಲು ಅಗತ್ಯವಾದ ಪರವಾನಿಗೆಯನ್ನು ಪಡೆಯಲು ಎಷ್ಟು ವಯಸ್ಸಿನ ವರೆಗೆ ವೈದ್ಯಕೀಯ ಪ್ರಮಾಣ ಪತ್ರದ ಅಗತ್ಯವಿರುವುದಿಲ್ಲ?

- (a) 18 ವರ್ಷಗಳು
- (b) 21 ವರ್ಷಗಳು
- (c) 50 ವರ್ಷಗಳು
- (d) 60 ವರ್ಷಗಳು

	INDIAN SPACE RESEARCH ORGANISATION	SET A
	WRITTEN TEST FOR RECRUITMENT TO THE POST OF LVD-A/HVD-A/SCD-A, 2017	

3. दिखाये गये संकेत का अर्थ बताएं ।

- | | |
|--------------------------|---------------------|
| (a) पार्किंग निषेध | (b) यहाँ पार्क करें |
| (c) ना रुके ना खड़े रहें | (d) बस स्टॉप |



Give the meaning of sign shown.

- | | |
|-----------------------------|---------------|
| (a) No parking | (b) Park here |
| (c) No stopping or standing | (d) Bus stop |

ಇಲ್ಲಿ ನೀಡಿರುವ ಚಿಹ್ನೆಯ ಅರ್ಥವನ್ನು ತಿಳಿಸಿರಿ.

- | | |
|-----------------------------------|--------------------------|
| (a) ಪಾರ್ಕಿಂಗ್ ನಿಷೇಧ | (b) ಇಲ್ಲಿ ಪಾರ್ಕಿಂಗ್ ಮಾಡಿ |
| (c) ನಿಲ್ಲಬಾರದು ಮತ್ತು ನಿಲ್ಲಿಸಬಾರದು | (d) ಬಸ್ ಸ್ಟಾಪ್ |

4. निजी वाहन की नंबर प्लेट :


- | |
|---------------------------------------|
| (a) सफ़ेद पृष्ठभूमि पर काले अक्षर में |
| (b) पीले पृष्ठभूमि पर काले अक्षर में |
| (c) कोई भी रंग में होनी चाहिए |
| (d) काले पृष्ठभूमि पर पीके अक्षर में |

Number plate of personal vehicle :

- | |
|--|
| (a) Black letters on white background |
| (b) Black letters on yellow background |
| (c) Should be of any color |
| (d) Yellow letters on black background |

ವೈಯಕ್ತಿಕ ವಾಹನದ ನಂಬರ್ ಪ್ಲೇಟ್ :

- | |
|--|
| (a) ಬಿಳಿ ಬ್ಯಾಕ್‌ಗ್ರೌಂಡ್‌ನಲ್ಲಿ ಕಪ್ಪು ಅಕ್ಷರಗಳು |
| (b) ಹಳದಿ ಬ್ಯಾಕ್‌ಗ್ರೌಂಡ್‌ನಲ್ಲಿ ಕಪ್ಪು ಅಕ್ಷರಗಳು |
| (c) ಯಾವುದೇ ಬಣ್ಣದ್ದಾಗಿರಬಹುದು |
| (d) ಕಪ್ಪು ಬ್ಯಾಕ್‌ಗ್ರೌಂಡ್‌ನಲ್ಲಿ ಹಳದಿ ಅಕ್ಷರಗಳು |

	INDIAN SPACE RESEARCH ORGANISATION	SET A
	WRITTEN TEST FOR RECRUITMENT TO THE POST OF LVD-A/HVD-A/SCD-A, 2017	

5. मानव रहित रेलवे क्रॉसिंग पार करते वक्त, चालक:

- होर्न बजाकर आगे बढ़े
- रुके और चालक या वाहन से कोई भी आदमी नीचे उतरकर जांच करे कि किसी भी ओर से ट्रेन या ट्रॉली आ तो नहीं रही
- 10 किमी प्रति घंटे की रफ्तार से आगे बढ़े
- 30 किमी प्रति घंटे की रफ्तार से आगे बढ़े

When crossing an unmanned railway crossing, the driver should :

- Blow the horn and proceed
- Stop and the driver or any other person in the vehicle should get down and ensure that no train or trolley is approaching from either side
- Proceed at speed of 10 km/hour
- Proceed at speed of 30 km/hour

कावಲುगार इल्लद र्द्येल्डे क्रासिंग् दारुतुवाग चालकनु :

- हारनु ह्येडेदु मुणुदुवरियुब्येकु
- वाहनवणुनु निल्लिसि, चालक अधवा वाहनदल्लिरुव यावुदये वुक्कि केळगिळुदु एरडुओ दिक्कुगळुंद र्द्येलु अधवा छुल्लु बरुत्तिल्लवेणुदु खाल्लि मारुडिकुओळुब्येकु
- 10 कि.मी./घणुंटे वेगदल्लि मुणुदुवरियुत्तिरब्येकु
- 30 कि.मी./घणुंटे वेगदल्लि मुणुदुवरियुत्तिरब्येकु

6. मोटर वाहन चलाने के लिए लर्निंग लाइसेंस प्राप्त करने हेतु न्यूनतम आयु है:


- | | |
|-------------|-------------|
| (a) 14 वर्ष | (b) 16 वर्ष |
| (c) 18 वर्ष | (d) 21 वर्ष |

Minimum age to get learning licence to drive a motor vehicle is

- | | |
|--------------|--------------|
| (a) 14 years | (b) 16 years |
| (c) 18 years | (d) 21 years |

मोटरवाहन चालानेक ले लरनिंग लाइसेंस प्राप्त करने हेतु न्यूनतम आयु है :

- | | |
|-------------|-------------|
| (a) 14 वर्ष | (b) 16 वर्ष |
| (c) 18 वर्ष | (d) 21 वर्ष |

	INDIAN SPACE RESEARCH ORGANISATION	SET A
	WRITTEN TEST FOR RECRUITMENT TO THE POST OF LVD-A/HVD-A/SCD-A, 2017	

7. दिखाये गये संकेत का अर्थ बताएं ।

- | | |
|----------------|-------------------------|
| (a) गति अवरोधक | (b) आदमी काम कर रहे हैं |
| (c) रनवे | (d) आगे पाठशाला है |



Give the meaning of sign shown.

- | | |
|-------------------|------------------|
| (a) Speed breaker | (b) Men at work |
| (c) Runway | (d) School ahead |

ಇಲ್ಲಿ ನೀಡಿರುವ ಚಿಹ್ನೆಗೆ ಅರ್ಥವನ್ನು ತಿಳಿಸಿ.

- | | |
|-----------------|------------------------------|
| (a) ವೇಗನಿಯಂತ್ರಕ | (b) ಜನರು ಕಾರ್ಯನಿರತರಾಗಿದ್ದಾರೆ |
| (c) ರನ್‌ವೇ | (d) ಮುಂದೆ ಶಾಲೆ ಇದೆ |

8. राज्य से जारी हुआ ड्राइविंग लाइसेंस:


- | |
|---|
| (a) पूरे भारत में मान्य है |
| (b) पूरी दुनिया में मान्य है |
| (c) जिस राज्य से जारी हुआ हो उस राज्य में ही मान्य है |
| (d) जिस राज्य से जारी हुआ हो उस राज्य में और दिल्ली में ही मान्य है |

A motor driving license issued by a state :

- | |
|---|
| (a) is valid throughout India |
| (b) is valid throughout the world |
| (c) is valid only in the state of issue |
| (d) is valid only in the state of issue and Delhi |


ಒಂದು ರಾಜ್ಯವು ನೀಡಿರುವ ಮೋಟಾರ್ ಚಾಲನೆ ಪರವಾನಿಗೆಯು :

- | |
|---|
| (a) ಭಾರತಾದ್ಯಂತ ಮಾನ್ಯವಾಗಿರುತ್ತದೆ |
| (b) ವಿಶ್ವದಾದ್ಯಂತ ಮಾನ್ಯವಾಗಿರುತ್ತದೆ |
| (c) ನೀಡಿದ ರಾಜ್ಯದಲ್ಲಿ ಮಾತ್ರ ಮಾನ್ಯವಾಗಿರುತ್ತದೆ |
| (d) ನೀಡಿದ ರಾಜ್ಯ ಮತ್ತು ದೆಹಲಿಯಲ್ಲಿ ಮಾತ್ರ ಮಾನ್ಯವಾಗಿರುತ್ತದೆ |

	INDIAN SPACE RESEARCH ORGANISATION	SET A
	WRITTEN TEST FOR RECRUITMENT TO THE POST OF LVD-A/HVD-A/SCD-A, 2017	

9. दिखाये गये संकेत का अर्थ बताएं ।

- (a) अस्पताल
- (b) खाने-पीने का स्थल
- (c) आराम गृह
- (d) अल्पाहार स्थल



Give the meaning of sign shown.

- (a) Hospital
- (b) Eating place
- (c) Resting place
- (d) Light refreshment place

ಇಲ್ಲಿ ನೀಡಿರುವ ಚಿಹ್ನೆಗೆ ಅರ್ಥವನ್ನು ತಿಳಿಸಿ.

- (a) ಆಸ್ಪತ್ರೆ
- (b) ಆಹಾರ ಸ್ವೀಕರಿಸುವ ಸ್ಥಳ
- (c) ವಿಶ್ರಾಂತಿ ಸ್ಥಳ
- (d) ಲಘು ಉಪಾಹಾರ ಸ್ಥಳ

10. आपके वाहन से हुई दुर्घटना में यदि कोई व्यक्ति जखमी हो जाता है तो, आपको :

- (a) नजदीकी पुलिस स्टेशन में रिपोर्ट दर्ज कर घायल व्यक्ति को अस्पताल ले जाना चाहिए
- (b) पहले घायल व्यक्ति को अस्पताल ले जाना चाहिए और बाद में पुलिस स्टेशन में रिपोर्ट दर्ज करानी चाहिए
- (c) पुलिस स्टेशन में रिपोर्ट दर्ज कराने की जरूरत नहीं है, पर घायल व्यक्ति को अस्पताल ले जाना चाहिये।
- (d) वहाँ से भाग जाना चाहिये

By your vehicle if anybody is hurt in an accident, you should :

- (a) Report to the nearest police station, and take the injured persons to the hospital
- (b) First take the injured person to the hospital and then report to the police station
- (c) Need not report to the police station but should take the injured person to the hospital
- (d) Run away from the place

ನಿಮ್ಮ ವಾಹನದಿಂದಾಗಿ ಅಪಘಾತದಲ್ಲಿ ಯಾರಾದರೂ ಗಾಯಗೊಂಡರೆ, ನೀವು :

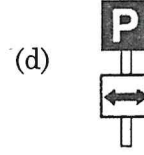
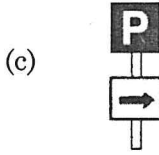
- (a) ಸಮೀಪದ ಪೊಲೀಸ್ ಸ್ಟೇಷನ್‌ನಲ್ಲಿ ರಿಪೋರ್ಟ್ ಮಾಡಬೇಕು, ಮತ್ತು ಗಾಯಾಳುವನ್ನು ಆಸ್ಪತ್ರೆಗೆ ಕರೆದೊಯ್ಯಬೇಕು
- (b) ಮೊದಲು ಗಾಯಗೊಂಡ ವ್ಯಕ್ತಿಯನ್ನು ಆಸ್ಪತ್ರೆಗೆ ಕರೆದೊಯ್ಯಬೇಕು ಮತ್ತು ನಂತರ ಪೊಲೀಸ್ ಸ್ಟೇಷನ್‌ನಲ್ಲಿ ರಿಪೋರ್ಟ್ ಮಾಡಬೇಕು
- (c) ಪೊಲೀಸ್ ಸ್ಟೇಷನ್‌ನಲ್ಲಿ ರಿಪೋರ್ಟ್ ಮಾಡಬೇಕಾದ ಅಗತ್ಯವಿಲ್ಲ, ಆದರೆ ಗಾಯಾಳುವನ್ನು ಆಸ್ಪತ್ರೆಗೆ ಕರೆದೊಯ್ಯಬೇಕು
- (d) ಆ ಸ್ಥಳದಿಂದ ಪಲಾಯನ ಮಾಡಬೇಕು

	INDIAN SPACE RESEARCH ORGANISATION	SET A
	WRITTEN TEST FOR RECRUITMENT TO THE POST OF LVD-A/HVD-A/SCD-A, 2017	

11. इनमें से कौन सा संकेत 'दोनों साइड पार्क करें' के लिये है?

Which sign shows 'park both sides'?

"ಎರಡೂ ಬದಿಗಳಲ್ಲಿ ಪಾರ್ಕ್ ಮಾಡಬಹುದು" ಎಂದು ತೋರಿಸುವ ಚಿಹ್ನೆ ಇವುಗಳಲ್ಲಿ ಯಾವುದು?



12. पंजीकरण नंबर प्लेट होनी चाहिये:


- (a) अंग्रेजी भाषा में तथा अंक अरेबिक लिपि में
- (b) स्थानीय भाषा में तथा अंक देवनागरी लिपि में
- (c) अंग्रेजी भाषा में और चाहें तो स्थानीय भाषा में
- (d) केवल हिंदी भाषा में

Registration number plate must be :

- (a) In English language with Arabic numerals
- (b) In local language with Devanagri numerals
- (c) In English and in local language if desired
- (d) Only in Hindi language

ರಿಜಿಸ್ಟ್ರೇಶನ್ ನಂಬರ್ ಪ್ಲೇಟ್ ಇರಬೇಕಾದ್ದು :

- (a) ಇಂಗ್ಲೀಷ್ ಭಾಷೆಯ ಅಕ್ಷರಗಳೊಂದಿಗೆ ಅರೇಬಿಕ್ ಅಂಕಗಳು
- (b) ಸ್ಥಳೀಯ ಭಾಷೆಯ ಅಕ್ಷರಗಳೊಂದಿಗೆ ದೇವನಾಗರಿ ಅಂಕಗಳು
- (c) ಇಂಗ್ಲೀಷ್‌ನಲ್ಲಿ ಮತ್ತು ಸ್ಥಳೀಯ ಭಾಷೆಯಲ್ಲಿ ಅಗತ್ಯವಿದ್ದರೆ
- (d) ಕೇವಲ ಹಿಂದೀ ಭಾಷೆಯಲ್ಲಿ

	INDIAN SPACE RESEARCH ORGANISATION	SET A
	WRITTEN TEST FOR RECRUITMENT TO THE POST OF LVD-A/HVD-A/SCD-A, 2017	

13. दिखाये गये संकेत का अर्थ बताएं।

- (a) ट्रक प्रतिबंधित
- (b) सभी वाहन प्रतिबंधित
- (c) साईकल प्रतिबंधित
- (d) कार प्रतिबंधित



Give the meaning of sign shown.

- (a) Trucks prohibited
- (b) All vehicles prohibited
- (c) Cycle prohibited
- (d) Car prohibited

ಇಲ್ಲಿ ನೀಡಲಾದ ಚಿಹ್ನೆಯ ಅರ್ಥವನ್ನು ತಿಳಿಸಿ.

- (a) ಟ್ರಕ್‌ಗಳನ್ನು ನಿಷೇಧಿಸಲಾಗಿದೆ
- (b) ಎಲ್ಲಾ ವಾಹನಗಳನ್ನೂ ನಿಷೇಧಿಸಲಾಗಿದೆ
- (c) ಸೈಕಲ್‌ಗಳನ್ನು ನಿಷೇಧಿಸಲಾಗಿದೆ
- (d) ಕಾರ್‌ಗಳನ್ನು ನಿಷೇಧಿಸಲಾಗಿದೆ

14. 'टेईल-गेटींग' का अर्थ है :


- (a) अपने वाहन के आगे चल रहे किसी भी वाहन के पीछे एकदम पास खतरनाक तरीके से चलाना
- (b) आगे चले रहे वाहन से सुरक्षित दूरी बनाकर समानुपात में गति नियंत्रित करते हुए वाहन को आगे बढ़ाना
- (c) आगे चल रहे वाहन से कम से कम 7 मीटर की दूरी बनाये रखना
- (d) इनमें से कोई नहीं

'Tail-gating' means :

- (a) Driving too close behind a vehicle in dangerous manner
- (b) Keeping safe distance from the vehicle ahead by regulating the speed proportionately
- (c) Keeping a distance of at least 7 meters from the vehicle ahead
- (d) None of above

"ಟೈಲ್-ಗೆಟಿಂಗ್" ಎಂದರೆ :

- (a) ಅಪಾಯಕಾರ ರೀತಿಯಲ್ಲಿ ವಾಹನವೊಂದರ ಹಿಂಭಾಗದಿಂದ ಅತ್ಯಂತ ಸಮೀಪದಲ್ಲಿ ಚಾಲನೆ ಮಾಡುವುದು
- (b) ಸಮಾನಾಂತರ ವೇಗದೊಂದಿಗೆ ಮುಂಭಾಗದಲ್ಲಿರುವ ವಾಹನದಿಂದ ಸುರಕ್ಷಿತ ಅಂತರವನ್ನು ಕಾಯ್ದುಕೊಳ್ಳುವುದು
- (c) ಮುಂಭಾಗದಲ್ಲಿರುವ ವಾಹನದಿಂದ ಕನಿಷ್ಠ 7 ಮೀಟರ್ ಅಂತರವನ್ನು ಕಾಯ್ದುಕೊಳ್ಳುವುದು
- (d) ಮೇಲಿನ ಯಾವುದೂ ಅಲ್ಲ

	INDIAN SPACE RESEARCH ORGANISATION	SET A
	WRITTEN TEST FOR RECRUITMENT TO THE POST OF LVD-A/HVD-A/SCD-A, 2017	

15. दिखाये गये संकेत का प्रकार बताएं।

- (a) अनिवार्य संकेत
- (b) सावधानी संकेत
- (c) सूचना संकेत
- (d) इनमें से कोई नहीं



Give the type of sign shown.

- (a) Mandatory Sign
- (b) Cautionary Sign
- (c) Informatory Sign
- (d) None of above

ಇಲ್ಲಿ ನೀಡಲಾದ ಚಿಹ್ನೆಯ ವಿಧ ಯಾವುದು?

- (a) ಕಡ್ಡಾಯ ಚಿಹ್ನೆ
- (b) ಎಚ್ಚರಿಕೆ ಚಿಹ್ನೆ
- (c) ಸೂಚನಾತ್ಮಕ ಚಿಹ್ನೆ
- (d) ಮೇಲಿನ ಯಾವುದೂ ಅಲ್ಲ

16. निवास स्थान का पता एक से दूसरी जगह बदलने की स्थिति में, आप को कितने दिनों के अंदर R.T.O. को सूचित करना चाहिए?


- (a) 10 दिन
- (b) 20 दिन
- (c) 30 दिन
- (d) 45 दिन

On having changed your residential address from one to another, you should notify the R.T.O. within?

- (a) 10 days
- (b) 20 days
- (c) 30 days
- (d) 45 days

ನಿಮ್ಮ ವಾಸಸ್ಥಳದ ವಿಳಾಸವನ್ನು ಒಂದು ಸ್ಥಳದಿಂದ ಇನ್ನೊಂದು ಸ್ಥಳಕ್ಕೆ ಬದಲಾಯಿಸಿದಾಗ, ನೀವು ಎಷ್ಟು ದಿನಗಳೊಳಗೆ R.T.O.ಗೆ ಸೂಚಿಸಬೇಕು?

- (a) 10 ದಿನಗಳು
- (b) 20 ದಿನಗಳು
- (c) 30 ದಿನಗಳು
- (d) 45 ದಿನಗಳು

 ISRO	INDIAN SPACE RESEARCH ORGANISATION	SET A
	WRITTEN TEST FOR RECRUITMENT TO THE POST OF LVD-A/HVD-A/SCD-A, 2017	

17. दिखाये गये संकेत का अर्थ बताएं।

- (a) पार्किंग निषेध
- (b) दोनों ओर से प्रवेश निषेध
- (c) प्रवेश निषेध
- (d) ना रुके ना खड़े रहें



Give the meaning of sign shown.

- (a) No Parking
- (b) Entry prohibited in both directions
- (c) No entry
- (d) No stopping or standing

ಇಲ್ಲಿ ನೀಡಿರುವ ಚಿಹ್ನೆಗೆ ಅರ್ಥವನ್ನು ತಿಳಿಸಿ.

- (a) ಪಾರ್ಕಿಂಗ್ ಮಾಡಬಾರದು
- (b) ಎರಡೂ ದಿಕ್ಕುಗಳಲ್ಲಿ ಪ್ರವೇಶವನ್ನು ನಿಷೇಧಿಸಿದೆ
- (c) ಪ್ರವೇಶವಿಲ್ಲ
- (d) ನಿಲುಗಡೆ ಅಥವಾ ನಿಲ್ಲಿಸುವಿಕೆ ಇಲ್ಲ

18. मोटर वाहन अधिनियम, 1988 के अनुभाग 112 के अनुसार :


- (a) वाहन को मर्यादित गति सीमा से तेज नहीं चलाया जा सकता
- (b) नशीले पदार्थ के सेवन के बाद वाहन न चलाएं
- (c) टैक्स भरे बिना सड़क पर वाहन न चलाएं
- (d) वाहन में मर्यादित भार रखें

According to Motor Vehicle Act 1988, Section 112 is :

- (a) Cannot drive more than speed limit
- (b) Don't drive under influence of drugs/liquor
- (c) Don't use vehicle on the road without paying tax
- (d) Put limited load in vehicle

ಮೋಟಾರ್ ವಾಹನ ಕಾಯ್ದೆ 1988, ಸೆಕ್ಷನ್ 112 ರ ಪ್ರಕಾರ :


- (a) ವೇಗಮಿತಿಗಿಂತ ಅಧಿಕ ವೇಗದಲ್ಲಿ ಚಲಾಯಿಸಬಾರದು.
- (b) ಡ್ರಗ್ಸ್/ಮದ್ಯಪಾನ ಸೇವಿಸಿ ಚಲಾಯಿಸಬಾರದು.
- (c) ತೆರಿಗೆ ಪಾವತಿಸದೆ ವಾಹನವನ್ನು ರಸ್ತೆಗಳಿಗಿಳಿಸಬಾರದು.
- (d) ವಾಹನದಲ್ಲಿ ಸೀಮಿತ ಭಾರವನ್ನು ಇರಿಸಿ.

 इसरो ISRO	INDIAN SPACE RESEARCH ORGANISATION	SET A
	WRITTEN TEST FOR RECRUITMENT TO THE POST OF LVD-A/HVD-A/SCD-A, 2017	

19. इनमें से कौनसा संकेत 'मानवरहित रेलवे क्रॉसिंग (50 मी. - 100 मी.)' के लिये है?

Which sign shows 'unguarded raliway crossing (50 m – 100 m)'?

"ಕಾವಲುಗಾರನಿಲ್ಲದ ರೈಲ್ವೇ ಕ್ರಾಸಿಂಗ್ (50 m – 100 m)" ಎಂದು ತೋರಿಸುವ ಚಿಹ್ನೆ ಇವುಗಳಲ್ಲಿ ಯಾವುದು?



20. ईंधन बचाने के लिए :


- (a) वाहन को निम्न गीयर में तेज चलाएं
- (b) वाहन को उच्च गीयर में ज्यादा गति से चलाएं
- (c) वाहन को सिफारिश की गई मध्यम नियत गति से चलाएं
- (d) वाहन को उच्च गीयर में धीमी गति से चलाएं

The best way to conserve fuel is to :

- (a) Drive at high speed in lower gear
- (b) Drive at high speed in high gear
- (c) Drive at moderate constant speed as recommended
- (d) Drive at slow speed in high gear

ಇಂಧನ ಉಳಿತಾಯಕ್ಕೆ ಅತ್ಯಂತ ಉತ್ತಮವಾದ ಉಪಾಯ :

- (a) ನಿಮ್ಮ ಗೇರ್‌ನಲ್ಲಿ ಉಚ್ಚ ಗತಿಯಲ್ಲಿ ಚಲಾಯಿಸುವುದು
- (b) ಉಚ್ಚ ಗೇರ್‌ನಲ್ಲಿ ಉಚ್ಚ ಗತಿಯಲ್ಲಿ ಚಲಾಯಿಸುವುದು
- (c) ಶಿಫಾರಸು ಮಾಡಲಾದ ಮಧ್ಯಮ ಸ್ಥಿರ ವೇಗದಲ್ಲಿ ಚಲಾಯಿಸುವುದು
- (d) ಉಚ್ಚ ಗೇರ್‌ನಲ್ಲಿ ನಿಧಾನ ಗತಿಯಲ್ಲಿ ಚಲಾಯಿಸುವುದು

 इमरो ISRO	INDIAN SPACE RESEARCH ORGANISATION	SET A
	WRITTEN TEST FOR RECRUITMENT TO THE POST OF LVD-A/HVD-A/SCD-A, 2017	

21. रात के समय वाहन जब सड़क के साइड में पार्क करें तब,

- (a) वाहन को लॉक करना चाहिए
- (b) जिस व्यक्ति के पास उस प्रकार के वाहन चलाने का लाइसेंस हो उस व्यक्ति को चालक की सीट पर बैठना चाहिए
- (c) पार्किंग लाइट चालू ही रखें
- (d) इनमें से कोई नहीं

When a vehicle is parked on the road side during night,

- (a) The vehicle should be locked
- (b) The person having license to drive such a vehicle should be on the driver's seat
- (c) The parking light shall remain lit
- (d) None of above

रात्रीवेले वाहनवन्नु रस्तैबुदिये पार्क माडिदाग :

- (a) वाहनवन्नु लाक माडबैकु
- (b) अउतक वाहनवन्नु चलायिसलु परवानिके हेओदिरुव वृक्तीयु जालकन असनदल्ले कुलीरबैकु
- (c) पार्किंग लाइट चालू ही रखें
- (d) मेलेन यावुदो अल्ल

22. ओवर टेकिंग मना है:

- (a) जब आगे का रास्ता दिखाई ना दे
- (b) सीधे रास्ते पर
- (c) ग्रामीण इलाके में
- (d) सभी जगह

Overtaking is prohibited :

- (a) When the road ahead is not visible
- (b) On straight road
- (c) In rural areas
- (d) All places

उपरोक्ते निषेधितलानिदे :

- (a) मउदिरुव रस्तैयु कालदददग
- (b) नेर रस्तैयुल्ले
- (c) ग्रामिण इलाके में
- (d) अल्ले स्तल्ले

23. पार्किंग स्थल पर वाहन के बीच का अंतर होना चाहिए :


- (a) 1.5 फीट
- (b) 2 फीट
- (c) 3 फीट
- (d) 4 फीट

Distance between vehicles at the parking place should be :

- (a) 1.5 feet
- (b) 2 feet
- (c) 3 feet
- (d) 4 feet

पार्किंग स्तल्ले वाहननगल्ले नडुवे इरबैकद अउतर :

- (a) 1.5 अडि
- (b) 2 अडि
- (c) 3 अडि
- (d) 4 अडि

	INDIAN SPACE RESEARCH ORGANISATION	SET A
	WRITTEN TEST FOR RECRUITMENT TO THE POST OF LVD-A/HVD-A/SCD-A, 2017	

24. आप दो लेन वाले रास्ते पर वाहन चला रहे हैं, आपके आगे की ओर चल रहा वाहन धीमी गति से चल रहा है और आगे का रास्ता ओवर टेकिंग के लिए बिलकुल साफ़ है। आप,
- वाहन को बाएँ ओर से आगे ले जायेंगे
 - वाहन को दाएँ ओर से आगे ले जायेंगे
 - वाहन को अनुकूल ओर से आगे ले जायेंगे
 - वाहन आगे ही नहीं ले जायेंगे

You are driving on a two-lane street, the vehicle ahead of you is moving very slowly, and the road ahead is clear for overtaking. You should,

- Overtake the vehicle from the left hand side
- Overtake the vehicle from the right hand side
- Overtake the vehicle from the convenient side
- Not overtake

ನೀವು ದ್ವಿ-ಪಥ ರಸ್ತೆಯಲ್ಲಿ ವಾಹನ ಚಲಾಯಿಸುತ್ತಿರುವಾಗ, ನಿಮ್ಮ ಮುಂಭಾಗದಲ್ಲಿರುವ ವಾಹನವು ಅತ್ಯಂತ ನಿಧಾನವಾಗಿ ಚಲಿಸುತ್ತಿದ್ದರೆ ಮತ್ತು ಮುಂದಿನ ರಸ್ತೆಯು ಓವರ್‌ಟೇಕ್ ಮಾಡಲು ಅನುಕೂಲವಾಗಿದ್ದರೆ, ನೀವು :

- ಎಡ ಬದಿಯಿಂದ ವಾಹನವನ್ನು ಓವರ್‌ಟೇಕ್ ಮಾಡಿ
- ಬಲ ಬದಿಯಿಂದ ವಾಹನವನ್ನು ಓವರ್‌ಟೇಕ್ ಮಾಡಿ
- ಅನುಕೂಲಕರ ಬದಿಯಿಂದ ವಾಹನವನ್ನು ಓವರ್‌ಟೇಕ್ ಮಾಡಿ
- ಓವರ್‌ಟೇಕ್ ಮಾಡಬೇಡಿ

25. गुड़ज़ करेज के लिए ज़मीन से माल की अधिकतम ऊंचाई कितनी होनी चाहिए?


- 3.8 m
- 3 m
- 1 m
- कोई सीमा नहीं

What is the maximum height of goods from the ground level for goods carriage?

- 3.8 m
- 3 m
- 1 m
- No Limit

ಸರಕು ಸಾಗಣಿಕೆಯ ವಾಹನದಲ್ಲಿ ಹೇರಲಾದ ಸರಕು ನೆಲದಿಂದ ಗರಿಷ್ಠ ಎಷ್ಟು ಎತ್ತರದಲ್ಲಿರಬಹುದು?

- 3.8 m
- 3 m
- 1 m
- ಮಿತಿ ಇಲ್ಲ

	INDIAN SPACE RESEARCH ORGANISATION	SET A
	WRITTEN TEST FOR RECRUITMENT TO THE POST OF LVD-A/HVD-A/SCD-A, 2017	

26. वाहन चलाते हुए अचानक अपने चलते वाहन को रोकने के लिए हाथ का सही संकेत है:

- दायां हाथ को जमीन के समांतर रखें तथा हथेली नीचे की ओर रखें
- दायां पैर दिखाएं
- कोई भी संकेत दिखाने की जरूरत नहीं
- दायां हाथ ऊपर करें तथा हथेली आगे की ओर दिखाएं

While driving you decided to stop immediately, the correct hand signal is :

- Keep right arm horizontal to the ground with palm downwards
- Show right leg
- No signal needed
- Right arm held erect with palm facing forward

ನೀವು ವಾಹನ ಚಲಾಯಿಸುತ್ತಿರುವಾಗ ಅಕಸ್ಮಾತ್ತಾಗಿ ವಾಹನವನ್ನು ನಿಲ್ಲಿಸಬೇಕಾದರೆ, ನೀಡಬೇಕಾದ ಸೂಕ್ತ ಕೈ-ಸಂಕೇತ :

- ಅಂಗೈ ಕೆಳಗಿರುವಂತೆ ಬಲಗೈಯನ್ನು ಸಮತಲವಾಗಿ ಹೊರ ಚಾಚುವುದು
- ಬಲಗಾಲನ್ನು ತೋರಿಸುವುದು
- ಸಂಕೇತದ ಅಗತ್ಯವಿಲ್ಲ
- ಅಂಗೈ ಮುಂದಕ್ಕೆ ಕಾಣುವಂತೆ ಬಲಗೈಯನ್ನು ನೇರವಾಗಿ ಎತ್ತಿ ತೋರಿಸುವುದು

27. गीले या फिसलन वाले रास्ते पर वाहन चलाते समय:


- पहिये में हवा का दबाव कम होना चाहिए
- अचानक ब्रेक न मारना चाहिए और न ही एकदम से गति बढ़ानी चाहिए
- वाहन को अधिक गति पर चलायें
- वाहन नहीं चलाएं

While driving on a wet or slippery road :

- Tyre pressure must be reduced
- Sudden braking or acceleration must be avoided
- Vehicle should be driven at a high speed
- Will not drive the vehicle

ಒದ್ದೆ ಅಥವಾ ಜಾರುವ ರಸ್ತೆಯಲ್ಲಿ ವಾಹನ ಚಲಾಯಿಸುವಾಗ :

- ಟೈರ್‌ನಲ್ಲಿರುವ ಗಾಳಿಯ ಒತ್ತಡವನ್ನು ಕಡಿಮೆಗೊಳಿಸಬೇಕು
- ಒಮ್ಮೆಗೆ ಬ್ರೇಕ್ ಹಾಕಬಾರದು ಅಥವಾ ಆಕ್ಸೆಲರೇಶನ್ ಕೊಡಬಾರದು
- ವಾಹನವನ್ನು ಅತಿ ವೇಗದಲ್ಲಿ ಚಲಾಯಿಸಬೇಕು
- ವಾಹನವನ್ನು ಚಲಾಯಿಸಬಾರದು

	INDIAN SPACE RESEARCH ORGANISATION	SET A
	WRITTEN TEST FOR RECRUITMENT TO THE POST OF LVD-A/HVD-A/SCD-A, 2017	

28. वाहन को उल्टा चलाना मना है:

- (a) मुख्य रास्ते पर
- (b) सीधे रास्ते पर
- (c) गोलाई वाले रास्ते पर
- (d) किसी भी रास्ते पर

Reversing of vehicles is prohibited :

- (a) On main road
- (b) On straight road
- (c) On curves
- (d) On any road

ವಾಹನವನ್ನು ಹಿಂದಕ್ಕೆ ಚಲಾಯಿಸುವುದನ್ನು ನಿಷೇಧಿಸಿರುವುದು :

- (a) ಮುಖ್ಯ ರಸ್ತೆಗಳಲ್ಲಿ
- (b) ನೇರ ರಸ್ತೆಗಳಲ್ಲಿ
- (c) ತಿರುವುಗಳಲ್ಲಿ
- (d) ಯಾವುದೇ ರಸ್ತೆಗಳಲ್ಲಿ

29. वाहन चालक द्वारा इनमें से कौन सा (से) मूल दस्तावेज साथ में ना रखना अपराध है:


- (a) ड्राइविंग लाइसेंस
- (b) पंजीकरण (रजिस्ट्रेशन) प्रमाणपत्र
- (c) बीमा प्रमाणपत्र
- (d) आधार कार्ड

It is an offence for the driver of a motor vehicle to be not carrying, in original, the following document(s) :

- (a) Driving License
- (b) Registration Certificate
- (c) Insurance Certificate
- (d) Aadhar card

ಈ ಕೆಳಗಿನ ಯಾವ ದಾಖಲೆ(ಗಳ) ಮೂಲಪತ್ರವು ಮೋಟಾರ್ ಚಾಲಕನ ಬಳಿ ಇಲ್ಲದಿದ್ದರೆ, ಅದು ಅಪರಾಧವಾಗುತ್ತದೆ?

- (a) ಚಾಲನೆ ಪರವಾನಿಗೆ
- (b) ನೋಂದಣಿ ಪ್ರಮಾಣಪತ್ರ
- (c) ಇನ್ಶೂರೆನ್ಸ್ ಪ್ರಮಾಣಪತ್ರ
- (d) ಆಧಾರ್ ಕಾರ್ಡ್

	INDIAN SPACE RESEARCH ORGANISATION	SET A
	WRITTEN TEST FOR RECRUITMENT TO THE POST OF LVD-A/HVD-A/SCD-A, 2017	

30. वाहन चलाते समय लाल या नीली बत्ती चमकाता हुआ आपातकालीन वाहन देखने पर, आप:

- वाहन को बाएँ ओर रखकर गति धीमी करेंगे
- जहाँ हैं वहीं पर रुक जायेंगे
- वाहन को बायीं ओर ले जाकर रुक जायेंगे
- जितना हो सके उतनी तेज रफ्तार से वाहन चलायें

While driving, when a flashing red or blue light of an emergency vehicle is seen, you should :

- Keep the vehicle to the left of the road and slow down
- Stop where you are
- Pull the vehicle to the left and stop
- Drive as fast as you can

ನೀವು ವಾಹನ ಚಲಾಯಿಸುವಾಗ, ಯಾವುದಾದರೂ ಐಮರ್ಜೆನ್ಸಿ ವಾಹನದ ಫ್ಲಾಶಿಂಗ್ ಕೆಂಪು ಅಥವಾ ನೀಲಿ ಲೈಟ್ ಕಂಡುಬಂದರೆ :

- ವಾಹನವನ್ನು ರಸ್ತೆಯ ಎಡಭಾಗದಲ್ಲಿ ಚಲಾಯಿಸುತ್ತಾ ವೇಗವನ್ನು ಕಡಿಮೆಗೊಳಿಸಬೇಕು
- ನೀವು ಎಲ್ಲಿದ್ದೀರೋ ಅಲ್ಲೇ ಇರಬೇಕು
- ವಾಹನವನ್ನು ಎಡಭಾಗಕ್ಕೆ ಸರಿಸಿ ನಿಲ್ಲಿಸಬೇಕು
- ನಿಮಗೆ ಸಾಧ್ಯವಾದಷ್ಟೂ ವೇಗವಾಗಿ ಚಲಾಯಿಸಬೇಕು

31. दिखाये गये संकेत का प्रकार बताएं।

- अनिवार्य संकेत
- सावधानी संकेत
- सूचना संकेत
- इनमें से कोई नहीं




Give the type of sign shown.

- Mandatory Sign
- Cautionary Sign
- Informatory Sign
- None of above

ಇಲ್ಲಿ ನೀಡಲಾದ ಚಿಹ್ನೆಯ ಯಾವ ಪ್ರಕಾರದ್ದು?



- ಕಡ್ಡಾಯ ಚಿಹ್ನೆ
- ಎಚ್ಚರಿಕೆ ಚಿಹ್ನೆ
- ಸೂಚನಾತ್ಮಕ ಚಿಹ್ನೆ
- ಮೇಲಿನ ಯಾವುದೂ ಅಲ್ಲ

	INDIAN SPACE RESEARCH ORGANISATION	SET A
	WRITTEN TEST FOR RECRUITMENT TO THE POST OF LVD-A/HVD-A/SCD-A, 2017	

32. इनमें से कौनसा संकेत 'संकरे पुल' के लिये है?

Which sign shows 'narrow bridge'?

"ಕಿರಿದಾದ ನೇತುವೆ" ಎಂದು ಸೂಚಿಸುವ ಚಿಹ್ನೆ ಯಾವುದು?

- | | | | |
|-----|---|-----|---|
| (a) |  | (b) |  |
| (c) |  | (d) |  |

33. वाहन चलाते समय सामने से आते हुए वाहन के चालक द्वारा लाइट चमकाने (फ्लेश देने) पर, आप:


- रफ़्तार (गति) धीमी कर सावधानी से आगे बढ़ेंगे
- यदि संभव हो तो सुरक्षित रूप से रुक जाएंगे
- उसी रफ़्तार (गति) से आगे बढ़ते रहेंगे
- इनमें से कोई नहीं

During driving, if the driver of vehicle coming from opposite side is flashing light, you should :

- Slow down and proceed with caution
- If possible, stop safely
- Continue at the same speed
- None of above


ವಾಹನ ಚಲಾಯಿಸುತ್ತಿರುವಾಗ, ಎದುರಿನಿಂದ ಬರುತ್ತಿರುವ ವಾಹನ ಚಾಲಕನು ಲೈಟ್‌ನ್ನು ಫ್ಲಾಶ್ ಮಾಡಿದರೆ, ನೀವು:

- ವೇಗ ಕಡಿಮೆಗೊಳಿಸಿ ಎಚ್ಚರಿಕೆಯಿಂದ ಮುಂದುವರಿಯಬೇಕು
- ಸಾಧ್ಯವಿದ್ದರೆ, ಸುರಕ್ಷಿತವಾಗಿ ನಿಲ್ಲಿಸಬೇಕು
- ಅದೇ ವೇಗದಲ್ಲಿ ಮುಂದುವರಿಯಬೇಕು
- ಮೇಲಿನ ಯಾವುದೂ ಅಲ್ಲ

	INDIAN SPACE RESEARCH ORGANISATION	SET A
	WRITTEN TEST FOR RECRUITMENT TO THE POST OF LVD-A/HVD-A/SCD-A, 2017	

34. दिखाये गये संकेत का अर्थ बताएं।

- (a) अनिवार्यतः दायें मुड़ें
- (b) अनिवार्यतः बायें मुड़ें
- (c) अनिवार्यतः सीधे चले
- (d) इनमें से कोई नहीं



Give the meaning of sign shown.

- (a) Compulsory right turn
- (b) Compulsory left turn
- (c) Compulsory ahead
- (d) None of above

ಇಲ್ಲಿ ನೀಡಿರುವ ಚಿಹ್ನೆಯ ಅರ್ಥವೇನು?

- (a) ಕಡ್ಡಾಯವಾಗಿ ಬಲಕ್ಕೆ ತಿರುಗಿ
- (b) ಕಡ್ಡಾಯವಾಗಿ ಎಡಕ್ಕೆ ತಿರುಗಿ
- (c) ಕಡ್ಡಾಯವಾಗಿ ಮುಂದುವರಿಯಿರಿ
- (d) ಮೇಲಿನ ಯಾವುದೂ ಅಲ್ಲ

35. पैदल चलनेवाला व्यक्ति बिना साइन वाले चौराहे से सड़क पार कर रहा है, तो आप:


- (a) राह चलते व्यक्ति को रास्ता पार करने का हक देंगे
- (b) ध्यानपूर्वक आगे बढ़ेंगे क्योंकि राह चलता व्यक्ति आराम से या मजे से चल रहा है।
- (c) रफ्तार (गति) धीमी करके राह चलते व्यक्ति को सावधानी बरतने के लिए कहेंगे
- (d) लगातार हॉर्न बजाते हुए अपना वाहन चलायें

A pedestrian is crossing the road at an intersection on an unmarked crossing sign, you should :

- (a) Yield or give the pedestrian the "right-of-way"
- (b) Proceed with care as pedestrian is 'joy-walking'
- (c) Reduce speed and warn pedestrian
- (d) Drive with blowing horn continuously

ಗುರುತಿಸದ ಕ್ರಾಸಿಂಗ್ ಚಿಹ್ನೆಯ ಇಂಟರ್‌ಸೆಕ್ಷನ್‌ನಲ್ಲಿ ಪಾದಚಾರಿಯೊಬ್ಬನು ರಸ್ತೆ ದಾಟುತ್ತಿದ್ದರೆ, ನೀವು :

- (a) ಸರಿದುಕೊಳ್ಳಬೇಕು ಅಥವಾ ಪಾದಚಾರಿಗೆ ಆತನ "ದಾರಿ-ಹಕ್ಕು" ನೀಡಬೇಕು
- (b) ಪಾದಚಾರಿಯು "ಜಾಯ್-ವಾಕ್" ಮಾಡುತ್ತಿರುವುದರಿಂದ ಜಾಗರೂಕರಾಗಿ ಮುಂದುವರಿಯಬೇಕು
- (c) ವೇಗ ಕಡಿಮೆಗೊಳಿಸಬೇಕು ಮತ್ತು ಪಾದಚಾರಿಗೆ ಎಚ್ಚರಿಕೆ ನೀಡಬೇಕು
- (d) ನಿರಂತರವಾಗಿ ಹಾರ್ನ್ ಹೊಡೆಯುತ್ತಾ ಚಲಾಯಿಸಬೇಕು

	INDIAN SPACE RESEARCH ORGANISATION	SET A
	WRITTEN TEST FOR RECRUITMENT TO THE POST OF LVD-A/HVD-A/SCD-A, 2017	

36. दिखाये गये संकेत का अर्थ बताएं।
- 50 मिनिट तक रुकें
 - ऊंचाई मर्यादा 50 मी.
 - चौड़ाई मर्यादा 50 मी.
 - गति मर्यादा 50 किमी /घंटा



Give the meaning of sign shown :

- Stop for 50 minutes
- Height limit 50 m
- Width limit 50 m
- Speed limit 50 km/hr

ಇಲ್ಲಿ ನೀಡಿರುವ ಚಿಹ್ನೆಯ ಅರ್ಥವನ್ನು ತಿಳಿಸಿ :

- 50 ನಿಮಿಷಗಳ ಕಾಲ ನಿಲ್ಲಿಸಿ
- ಎತ್ತರದ ಮಿತಿ 50 m
- ಅಗಲದ ಮಿತಿ 50 m
- ವೇಗದ ಮಿತಿ 50 km/hr

37. दो पहिये (टायर) रेडियल और दो पहिये (टायर) सामान्य है, उनके प्रयोग का सही तरीका है:


- रेडियल टायर आगे और सामान्य टायर पीछे रखें
- रेडियल टायर दायें और सामान्य टायर बायीं ओर रखें
- रेडियल टायर पीछे और सामान्य टायर आगे रखें
- कोई भी टायर कहीं पर भी

Of the tyres, 2 tyres are radial and 2 tyres are ordinary, right method of using it, is :

- Radial tyres at front and ordinary tyres at rear
- Radial tyres on right and ordinary tyres on left
- Radial tyres at rear and ordinary tyres at front
- Any tyre anywhere

ಇರುವ ಟಿಯರ್‌ಗಳ ಪೈಕಿ, 2 ಟಿಯರ್‌ಗಳು ರೇಡಿಯಲ್ ಮತ್ತು 2 ಟಿಯರ್‌ಗಳು ಸಾಮಾನ್ಯವಾದವುಗಳು. ಅದನ್ನು ಬಳಸುವ ಸರಿಯಾದ ಕ್ರಮ :

- ರೇಡಿಯಲ್ ಟಿಯರ್‌ಗಳನ್ನು ಮುಂಭಾಗಕ್ಕೆ ಮತ್ತು ಸಾಮಾನ್ಯ ಟಿಯರ್‌ಗಳನ್ನು ಹಿಂಭಾಗಕ್ಕೆ ಹಾಕುವುದು
- ರೇಡಿಯಲ್ ಟಿಯರ್‌ಗಳನ್ನು ಬಲಭಾಗಕ್ಕೆ ಮತ್ತು ಸಾಮಾನ್ಯ ಟಿಯರ್‌ಗಳನ್ನು ಎಡಭಾಗಕ್ಕೆ ಹಾಕುವುದು
- ರೇಡಿಯಲ್ ಟಿಯರ್‌ಗಳನ್ನು ಹಿಂಭಾಗಕ್ಕೆ ಮತ್ತು ಸಾಮಾನ್ಯ ಟಿಯರ್‌ಗಳನ್ನು ಮುಂಭಾಗಕ್ಕೆ ಹಾಕುವುದು
- ಯಾವುದೇ ಟಿಯರ್ ಯಾವುದೇ ಭಾಗಕ್ಕೆ

	INDIAN SPACE RESEARCH ORGANISATION	SET A
	WRITTEN TEST FOR RECRUITMENT TO THE POST OF LVD-A/HVD-A/SCD-A, 2017	

38. निजी वाहन में कितने पसेन्जर (यात्री) बिठा सकते हैं, यह इसमें दर्शाया जाता है:

- (a) टैक्स टोकन
- (b) पंजीकरण प्रमाणपत्र
- (c) अनुमति पत्र
- (d) ड्राइविंग लाइसेंस

The number of passengers permitted to be taken in private vehicle is recorded in the :

- (a) Tax Token
- (b) Registration Certificate
- (c) Permit
- (d) Driving licence

ಖಾಸಗಿ ವಾಹನದಲ್ಲಿ ಸಾಗಿಸಬಹುದಾದ ಪ್ರಯಾಣಿಕರ ಸಂಖ್ಯಾಮಿತಿಯನ್ನು ಯಾವುದರಲ್ಲಿ ದಾಖಲಿಸಲಾಗಿದೆ?

- (a) ಟ್ಯಾಕ್ಸ್ ಟೋಕನ್
- (b) ನೋಂದಣಿ ಪ್ರಮಾಣಪತ್ರ
- (c) ಪರ್ಮಿಟ್
- (d) ಚಾಲನಾ ಪರವಾನಿಗೆ

39. बैटरी को भरने के लिए:


- (a) एसिड भरा जाता है
- (b) पेट्रोल या डीज़ल भरा जाता है
- (c) एसिड एवं पानी-दोनों का मिश्रण भरा जाता है
- (d) डिस्टिल वॉटर भरा जाता है

To top up the battery :

- (a) Acid is to be filled
- (b) Petrol or Diesel is filled
- (c) Mixture of both acid and water is filled
- (d) Distilled water is filled

ಬ್ಯಾಟರಿಯನ್ನು ಟಾಪ್-ಅಪ್ ಮಾಡಲು :

- (a) ಆಸಿಡ್‌ನ್ನು ತುಂಬಿಸಬೇಕು
- (b) ಪೆಟ್ರೋಲ್ ಅಥವಾ ಡೀಸೆಲ್‌ನ್ನು ತುಂಬಿಸಬೇಕು
- (c) ಆಸಿಡ್ ಮತ್ತು ನೀರಿನ ಮಿಶ್ರಣಗಳನ್ನು ತುಂಬಿಸಬೇಕು
- (d) ಡಿಸ್ಟಿಲ್ಡ್ ನೀರನ್ನು ತುಂಬಿಸಬೇಕು

	INDIAN SPACE RESEARCH ORGANISATION	SET A
	WRITTEN TEST FOR RECRUITMENT TO THE POST OF LVD-A/HVD-A/SCD-A, 2017	

40. बारिश के समय जब धुंधला दिखाई दे तब:
- दिन में भी हेड लाइट का इस्तमाल करे
 - जाँच करें कि वाइपर की पट्टी पुरानी या टूट तो नहीं गई है।
 - वाहन पीछे की ओर (रिवर्स) चलाते समय अधिक सावधानी बरतें।
 - जहाँ पानी भरा हो, उस स्थान से वाहन को न ले जाएं

When visibility is low during rainy seasons :

- Use head lights even during the day
- Make sure that wiper blades are not old or cracked
- Be extra cautious while reversing
- Don't drive vehicle where water is logged

ಮಳೆಗಾಲದಲ್ಲಿ ದೃಷ್ಟಿಗೋಚರತೆಯು ತುಂಬಾ ಕಡಿಮೆಯಾಗಿದ್ದಾಗ :

- ಹಗಲು ವೇಳೆಯಲ್ಲೂ ಹೆಡ್‌ಲೈಟ್‌ನ್ನು ಉರಿಸಬೇಕು
- ವೈಪರ್ ಬ್ಲೇಡ್‌ಗಳು ಹಳೆಯದಾಗಿಲ್ಲ ಮತ್ತು ಒಡೆದುಹೋಗಿಲ್ಲ ಎಂಬುದನ್ನು ಖಚಿತಪಡಿಸಿಕೊಳ್ಳಿ
- ರಿವರ್ಸ್ ಚಲಾಯಿಸುವಾಗ ಹೆಚ್ಚು ಜಾಗರೂಕರಾಗಿರಬೇಕು
- ನೀರು ನಿಂತಿರುವ ಜಾಗದಲ್ಲಿ ವಾಹನವನ್ನು ಚಲಾಯಿಸಬೇಡಿ

41. जल्दबाज़ी और बेतरकीब वाहन चलाना:


- दुर्घटना को आमंत्रण देता है
- लाइसेंस जारी करने वाले अधिकारी से कड़ी चेतावनी मिल सकती है
- लाइसेंस कुछ समय तक सस्पेंड या संपूर्ण रद्द हो सकता है
- इनमें से कोई नहीं

Rash and negligent driving :

- It is an invitation to accident
- Attracts strict warning from the license issuing authority
- License is liable for suspension or cancellation
- None of above

ರ್ಯಾಶ್ (ಅಡ್ಡಾದಿಡ್ಡಿ) ಮತ್ತು ಅಜಾಗರೂಕತೆಯ ಡ್ರೈವಿಂಗ್ ಮಾಡಿದಲ್ಲಿ :

- ಅಪಘಾತಕ್ಕೆ ಆಹ್ವಾನ ಕೊಟ್ಟಂತೆ
- ಚಾಲನಾ ಪರವಾನಿಗೆ ನೀಡುವ ಪ್ರಾಧಿಕಾರದಿಂದ ಶಿಸ್ತುಬದ್ಧ ಎಚ್ಚರಿಕೆಯನ್ನು ಆಕರ್ಷಿಸುತ್ತದೆ
- ಲೈಸೆನ್ಸ್ ಅಮಾನತು ಅಥವಾ ರದ್ದುಗೊಳಿಸುವಿಕೆಗೆ ಕಾರಣವಾಗುತ್ತದೆ
- ಮೇಲಿನ ಯಾವುದೂ ಅಲ್ಲ

	INDIAN SPACE RESEARCH ORGANISATION	SET A
	WRITTEN TEST FOR RECRUITMENT TO THE POST OF LVD-A/HVD-A/SCD-A, 2017	

42. आगे चल रहे वाहन के चालक द्वारा ओवर टेक का संकेत नहीं मिला है, ऐसे समय:

- (a) हम ओवर टेक कर सकते हैं
- (b) हमें ओवर टेक नहीं करना चाहिए
- (c) हम हॉर्न बजाकर ओवर टेक कर सकते हैं
- (d) हमें बाईं ओर से ओवर टेक करना चाहिए

The driver of the vehicle ahead has not given signal for over taking, at this time :

- (a) We can overtake
- (b) We should not overtake
- (c) We can overtake blowing horn
- (d) We should overtake from left side

ನಿಮ್ಮ ಮುಂಭಾಗದಲ್ಲಿರುವ ವಾಹನದ ಚಾಲಕನು ಓವರ್-ಟೇಕಿಂಗ್‌ಗೆ ತನ್ನ ಚಿಹ್ನೆಯನ್ನು ನೀಡದಿದ್ದರೆ :

- (a) ಓವರ್-ಟೇಕ್ ಮಾಡಬಹುದು
- (b) ಓವರ್-ಟೇಕ್ ಮಾಡಬಾರದು
- (c) ಹಾರನ್ ಬಾರಿಸುತ್ತಾ ಓವರ್-ಟೇಕ್ ಮಾಡಬಹುದು
- (d) ಎಡಭಾಗದಿಂದ ಓವರ್-ಟೇಕ್ ಮಾಡಬೇಕು

43. हल्के वाहन की हेड लाइट में किस प्रकार का आईना इस्तेमाल किया जाता है?


- (a) मध्योन्नत (बहिर्गोल)
- (b) अवतल (अंतर्गोल)
- (c) समतल
- (d) इनमें से कोई भी

Which type of mirror is used in head lights of light vehicles?

- (a) Convex
- (b) Concave
- (c) Plain
- (d) Any of the above

ಲಘು ವಾಹನಗಳ ಹೆಡ್-ಲೈಟ್‌ನಲ್ಲಿ ಯಾವ ವಿಧದ ಕನ್ನಡಿಯನ್ನು ಬಳಸಲಾಗುತ್ತದೆ?

- (a) ಉನ್ನತದರ್ಪಣ (ಕಾನ್ವೆಕ್ಸ್)
- (b) ನಿಮ್ಮದರ್ಪಣ (ಕಾನ್ಕೇವ್)
- (c) ಸಮತಲದರ್ಪಣ (ಪ್ಲೇನ್)
- (d) ಮೇಲಿನ ಯಾವುದಾದರೂ

	INDIAN SPACE RESEARCH ORGANISATION	SET A
	WRITTEN TEST FOR RECRUITMENT TO THE POST OF LVD-A/HVD-A/SCD-A, 2017	

44. जब दूसरा वाहन हमारे वाहन का ओवरटेक कर रहा हो तब:
- हमें अपने वाहन की गति नहीं बढ़ानी चाहिये
 - हम अपने वाहन की गति बढ़ा सकते हैं
 - सावधानी के साथ, हम अपने वाहन की गति बढ़ा सकते हैं
 - हम उसे ओवरटेक नहीं करने देंगे

When other vehicle is overtaking our vehicle :

- We shall not increase speed
- We can increase speed
- We can increase speed with due care
- We will not allow for overtake

ನಮ್ಮ ವಾಹನವನ್ನು ಬೇರೊಂದು ವಾಹನವು ಓವರ್‌ಟೇಕ್ ಮಾಡುವಾಗ :

- ನಾವು ವೇಗವನ್ನು ಹೆಚ್ಚಿಸಬಾರದು
- ನಾವು ವೇಗವನ್ನು ಹೆಚ್ಚಿಸಬಹುದು
- ಅತ್ಯಂತ ಜಾಗರೂಕತೆಯಿಂದ ನಾವು ವೇಗವನ್ನು ಹೆಚ್ಚಿಸಬಹುದು
- ನಾವು ಓವರ್‌-ಟೇಕ್ ಮಾಡಲು ಬಿಡಬಾರದು

45. वाहन बीमा अधिनियम के तहत तीसरी पार्टी के बीमे में सम्मिलित होता है:


- केवल वाहन
- वाहन एवं चोरी दोनों
- जखमी तीसरी पार्टी के संपत्ति का नुकसान
- वाहन, चोरी एवं जखमी तीसरी पार्टी के सम्पत्ति का नुकसान

Under vehicle insurance act, the third party insurance covers :

- Only Vehicle
- Both vehicle and theft
- Damage to property of injured 3rd party
- Vehicle, theft and damage to property of injured 3rd party

ವಾಹನ ವಿಮೆ ಕಾನೂನಿನಡಿಯಲ್ಲಿ, ಮೂರನೇ ಪಾರ್ಟಿ ಇನ್ಶೂರೆನ್ಸ್ ಒಳಗೊಂಡಿರುವುದು :

- ಕೇವಲ ವಾಹನವನ್ನು
- ವಾಹನ ಮತ್ತು ಕಳ್ಳತನ ಎರಡನ್ನೂ
- ನಷ್ಟಗೊಂಡಿರುವ 3ನೇ ಪಾರ್ಟಿಯ ಆಸ್ತಿಗಾದ ಹಾನಿಯನ್ನು
- ವಾಹನ, ಕಳ್ಳತನ ಮತ್ತು ನಷ್ಟಗೊಂಡಿರುವ 3ನೇ ಪಾರ್ಟಿಯ ಆಸ್ತಿಗಾದ ಹಾನಿಯನ್ನು

	INDIAN SPACE RESEARCH ORGANISATION	SET A
	WRITTEN TEST FOR RECRUITMENT TO THE POST OF LVD-A/HVD-A/SCD-A, 2017	

46. पेट्रोल वाहन द्वारा कौन सी ज़हरीली गैस निकलती है?

- (a) अमोनिया (b) कार्बन मोनोक्साइड
(c) क्लोरीन (d) सल्फर डायोक्साइड

Which poisonous gas is contained in the exhaust of a petrol driven vehicle?

- (a) Ammonia (b) Carbon Monoxide
(c) Chlorine (d) Sulphur Dioxide

ಪೆಟ್ರೋಲ್‌ನಿಂದ ಚಲಿಸುವ ವಾಹನಗಳ ಹೊರಸೂಸುವಿಕೆಯಲ್ಲಿ ಒಳಗೊಂಡಿರುವ ವಿಷಾನಿಲ :

- (a) ಅಮೋನಿಯಾ (b) ಕಾರ್ಬನ್ ಮೊನಾಕ್ಸೈಡ್
(c) ಕ್ಲೋರಿನ್ (d) ಸಲ್ಫರ್ ಡಯಾಕ್ಸೈಡ್

47. निजी सेवा वाहन को कितने साल में एक बार दुरुस्ती प्रमाणपत्र के लिए RTO में प्रस्तुत करना होता है?

- (a) 1 साल (b) 15 साल
(c) 10 साल (d) 5 साल

Private service vehicles need to be produced to RTO for Fitness Certificate once in?

- (a) 1 year (b) 15 years
(c) 10 years (d) 5 years

ಪೈವೇಟ್ ಸರ್ವಿಸ್ ವಾಹನಗಳನ್ನು RTO ಸಮುಖದಲ್ಲಿ ಎಷ್ಟು ವರ್ಷಗಳಿಗೊಮ್ಮೆ ಫಿಟ್ನೆಸ್ ಸರ್ಟಿಫಿಕೇಟ್‌ಗಾಗಿ ಹಾಜರುಪಡಿಸತಕ್ಕದ್ದು?

- (a) 1 ವರ್ಷ (b) 15 ವರ್ಷಗಳು
(c) 10 ವರ್ಷಗಳು (d) 5 ವರ್ಷಗಳು

48. वाहन की ब्रेकिंग प्रणाली में एबीएस (ABS) यानि :


- (a) एंटी-एजंट ब्रेकिंग सिस्टम
(b) एंटी-इंजिन ब्रेकिंग सिस्टम
(c) एक्सेलेरेटेड ब्रेकिंग सिस्टम
(d) एंटी-लोक ब्रेकिंग सिस्टम

In the braking system of vehicles, ABS means :

- (a) Anti-agent Braking System
(b) Anti-engine Braking System
(c) Accelerated Braking System
(d) Anti-lock Braking System

ವಾಹನಗಳ ಬ್ರೇಕಿಂಗ್ ಪದ್ಧತಿಯಲ್ಲಿ, ABS ಎಂದರೆ :

- (a) Anti-agent Braking System
(b) Anti-engine Braking System
(c) Acclertated Braking System
(d) Anti-lock Braking System

	INDIAN SPACE RESEARCH ORGANISATION	SET A
	WRITTEN TEST FOR RECRUITMENT TO THE POST OF LVD-A/HVD-A/SCD-A, 2017	

49. आपके पास वाहन चलाने का लर्निंग लाइसेंस है। आप:

- केवल दिन के प्रकाश में ही वाहन चला सकते हैं
- वाहन चलाने के समय जिसके पास वैध ड्राइविंग लाइसेंस हो ऐसी किसी व्यक्ति को अपने साथ या पीछे बिठाएं
- केवल ऐसे रास्तों पर ही वाहन चला सकते हैं, जहाँ बहुत कम ट्राफिक रहेता हो
- केवल रात में ही वाहन चलाये

You have a learning license to drive a vehicle. You should :

- Drive only in the daylight hours
- Have someone with a valid driver's license on the seat beside you when you drive
- Practice driving only on streets that have very little traffic
- Drive only in the night hours

ನಿಮ್ಮಲ್ಲಿ ವಾಹನವನ್ನು ಚಲಾಯಿಸಲು ಬೇಕಾದ ಕಲಿಕಾ ಪರವಾನಿಗೆ ಇದೆ. ನೀವು :

- ಹಗಲು ವೇಳೆಯಲ್ಲಿ ಮಾತ್ರ ಚಲಾಯಿಸಬೇಕು
- ಚಾಲನೆ ಮಾಡುವಾಗ ನಿಮ್ಮ ಪಕ್ಕದ ಸೀಟಿನಲ್ಲಿ ಉಚಿತ ಚಾಲನಾ ಪರವಾನಿಗೆ ಹೊಂದಿರುವ ವ್ಯಕ್ತಿಯೊಬ್ಬನನ್ನು ಕೂರಿಸಿಕೊಂಡಿರಬೇಕು
- ಅತ್ಯಂತ ಕಡಿಮೆ ಟ್ರಾಫಿಕ್ ಇರುವ ಬೀದಿಗಳಲ್ಲಿ ಚಾಲನಾ ಅಭ್ಯಾಸವನ್ನು ಮಾಡಬೇಕು
- ಕೇವಲ ರಾತ್ರಿ ವೇಳೆಯಲ್ಲಿ ಚಾಲನೆ ಮಾಡಬೇಕು

50. चौराहे पर सिग्नल की पीली बत्ती देखने पर वहाँ पहुँचने वाले वाहन चालक:


- सावधानी बरतेंगे और आगे बढ़ेंगे
- पीली बत्ती देखते ही, उस जगह ही रुक जायेंगे
- होर्न बजाकर आगे बढ़ेंगे
- रुकने के लिए रफ़्तार कम करेंगे

When the yellow light at an intersection appears on the signal light, the driver of a approaching vehicle should :

- Ensure safety and drive away
- Stop on same place when you see yellow light
- Sound horn and proceed
- Slow down to stop


ಸಿಗ್ನಲ್ ಲೈಟ್‌ನಲ್ಲಿ ಹಳದಿ ಲೈಟ್ ಬಂದಾಗ, ವಾಹನದ ಚಾಲಕನು :

- ಸುರಕ್ಷತೆಯನ್ನು ನಿಗದಿಪಡಿಸಿಕೊಂಡು ಮುಂದಕ್ಕೆ ಚಲಾಯಿಸುತ್ತಿರಬೇಕು
- ನೀವು ಹಳದಿ ಲೈಟ್‌ನ್ನು ನೋಡಿದ ಕೂಡಲೇ ಅದೇ ಸ್ಥಳದಲ್ಲಿ ನಿಂತುಬಿಡಬೇಕು
- ಹಾರ್ನ್ ಶಬ್ದ ಮಾಡಿ ಮುಂದುವರಿಯಬೇಕು
- ನಿಲ್ಲಿಸುವುದಕ್ಕಾಗಿ ವೇಗವನ್ನು ಕಡಿಮೆಮಾಡಬೇಕು

	INDIAN SPACE RESEARCH ORGANISATION	SET A
	WRITTEN TEST FOR RECRUITMENT TO THE POST OF LVD-A/HVD-A/SCD-A, 2017	

PART B — (QUESTIONS 51 TO 65)

51. _____ I come in?
 (a) Will (b) May
 (c) Would (d) Could
52. Opposite of “come” is _____.
 (a) uncome (b) discome
 (c) went (d) go
53. “Silent” means
 (a) noise (b) sound
 (c) quiet (d) loud
54. Mandatory means
 (a) Forcefully (b) temporary
 (c) ordinary (d) compulsory
55. Cost for the trip is known as:
 (a) fair (b) fare
 (c) budget (d) amount
56. My sister _____ as a teacher.
 (a) works (b) is work
 (c) working (d) work
57. Find odd one out.
 (a) Cauliflower (b) Cabbage
 (c) Rose (d) Potato

	INDIAN SPACE RESEARCH ORGANISATION	SET A
	WRITTEN TEST FOR RECRUITMENT TO THE POST OF LVD-A/HVD-A/SCD-A, 2017	

58. I am _____ Indian.

- | | |
|---------|-------------------|
| (a) a | (b) an |
| (c) the | (d) none of above |

59. _____ is my book.

- | | |
|----------|-----------|
| (a) Who | (b) These |
| (c) When | (d) This |

60. I _____ football after work.

- | | |
|-------------|-------------|
| (a) to play | (b) playing |
| (c) play | (d) am play |

61. Find odd one out.

- | | |
|----------------|---------------|
| (a) Rocket | (b) Aeroplane |
| (c) Helicopter | (d) Satellite |

62. There are _____ days in a week.

- | | |
|----------------------|------------|
| (a) five | (b) seven |
| (c) three sixty five | (d) thirty |

63. Opposite of the word 'curly' is :


- | | |
|--------------|-----------|
| (a) smooth | (b) sharp |
| (c) straight | (d) shiny |

64. Plural of 'flower' is :

- | | |
|-------------|---------------|
| (a) flowers | (b) floweres |
| (c) flowres | (d) flowerses |

65. Select the word with correct spelling.

- | | |
|------------|------------|
| (a) Koffee | (b) Cophi |
| (c) Cofee | (d) Coffee |

	INDIAN SPACE RESEARCH ORGANISATION	SET A
	WRITTEN TEST FOR RECRUITMENT TO THE POST OF LVD-A/HVD-A/SCD-A, 2017	

PART C — (QUESTIONS 66 TO 80)

66. $(22)^2 = \underline{\hspace{2cm}}$.

- | | |
|---------|---------|
| (a) 444 | (b) 848 |
| (c) 484 | (d) 844 |

67. निम्नलिखित अंकों के लिए कौन सा विकल्प सही है ?

Which option is true for the following numbers?

ಈ ಕೆಳಗಿನ ಸರಣಿ ಸಂಖ್ಯೆಗಳಿಗೆ ಯಾವ ಆಯ್ಕೆಯು ಸರಿಯಾಗಿದೆ?

3299, 2399, 9239, 9932, 9329

- | |
|--------------------------------------|
| (a) 9239 > 9329 > 2399 > 3299 > 9932 |
| (b) 9932 > 9329 > 9239 > 3299 > 2399 |
| (c) 2399 > 3299 > 9239 > 9329 > 9932 |
| (d) 9932 > 9239 > 9329 > 2399 > 3299 |

68. $0.25 + 0.75 + 0.55 + 1.05 = \underline{\hspace{2cm}}$.


- | | |
|---------|----------|
| (a) 2.5 | (b) 2.55 |
| (c) 2.6 | (d) 2.65 |

69. एक वाहन 350 किमी की दूरी 20 लीटर ईंधन में तय करता है, तो वाहन एक लीटर में कितने किमी की माइलेज (औसत या एवरेज) देता है?

A vehicle travels 350 km with 20 litres fuel. What is the mileage (average) of vehicle in km per litre?

ವಾಹನವೊಂದು 20 ಲೀಟರ್ ಇಂಧನದಲ್ಲಿ 350 ಕಿ.ಮೀ. ಪ್ರಯಾಣಿಸುತ್ತದೆ. ಹಾಗಿದ್ದರೆ, ಪ್ರತಿಲೀಟರ್‌ಗೆ ವಾಹನದ ಸರಾಸರಿ ಮೈಲೇಜ್ ಎಷ್ಟು ಕಿ.ಮೀ.?

- | | |
|--------|----------|
| (a) 20 | (b) 15 |
| (c) 25 | (d) 17.5 |

	INDIAN SPACE RESEARCH ORGANISATION	SET A
	WRITTEN TEST FOR RECRUITMENT TO THE POST OF LVD-A/HVD-A/SCD-A, 2017	

70. यदि ईंधन की कीमत रु. 55 प्रति लीटर है और कार की माइलेज (औसत या एवरेज) 10 किमी प्रति लीटर है, तो प्रति किलोमीटर कीमत क्या होगी?
- If the cost of fuel is Rs. 55 per litre and car mileage (average) is 10 km per litre. Cost per kilometer is?
- ಇಂಧನದ ಬೆಲೆ ಪ್ರತಿಲೀಟರ್‌ಗೆ 55 ರೂಪಾಯಿಗಳು ಮತ್ತು ಕಾರಿನ ಸರಾಸರಿ ಮೈಲೇಜ್ ಪ್ರತಿಲೀಟರ್‌ಗೆ 10 ಕಿ.ಮೀ.ಗಳು. ಹಾಗಿದ್ದರೆ, ಪ್ರತಿ ಕಿ.ಮೀ.ಗೆ ತಗಲುವ ಖರ್ಚು ಎಷ್ಟು?
- (a) Rs. 5.50 (b) Rs. 7.25
(c) Rs. 6.25 (d) Rs. 5.00
71. $(10 \times 25)/(2 \times 5) =$
- (a) 15 (b) 25
(c) 10 (d) 5
72. 2500 का 12% है:
- 12% of 2500 is :
- 2500 ರ 12% ಎಂದರೆ :
- (a) 300 (b) 275
(c) 250 (d) 200
73. $1025/25 =$ _____.
- (a) 31 (b) 40.5
(c) 42 (d) 41
74. $8568 + 3370 - 3129 =$ _____.
- (a) 7809 (b) 15067
(c) 8809 (d) 11938
75. यदि टैक्सी का किराया रु. 12 प्रति किमी है तो 80 किमी की दूरी तय करने के लिए यात्री कितना किराया चुकायेगा?
- If taxi fare is Rs. 12 per km, then what should the traveller pay for the distance of 80 km?
- ಟ್ಯಾಕ್ಸಿಯ ಬಾಡಿಗೆ ಪ್ರತಿ ಕಿ.ಮೀ.ಗೆ 12 ರೂಪಾಯಿಗಳು. ಹಾಗಿದ್ದರೆ 80 ಕಿ.ಮೀ. ದೂರದ ಪ್ರಯಾಣಕ್ಕೆ ಯಾತ್ರಿಕನು ಎಷ್ಟು ರೂಪಾಯಿಗಳನ್ನು ನೀಡಬೇಕು?
- (a) Rs. 690.00 (b) Rs. 1280.00
(c) Rs. 120.00 (d) Rs. 960.00



INDIAN SPACE RESEARCH ORGANISATION
WRITTEN TEST FOR RECRUITMENT TO THE POST OF
LVD-A/HVD-A/SCD-A, 2017

SET
A

76. 5 km = _____ m

- (a) 5000 (b) 50
(c) 500 (d) 50000

77. $3/2 = x/1500 : x = ?$

- (a) 3000 (b) 2250
(c) 1500 (d) 4500

78. 50, 60, 70, 80 और 90 की औसत है:

Average of 50, 60, 70, 80 and 90 is :

50, 60, 70, 80 ಮತ್ತು 90 ಗಳ ಸರಾಸರಿ :

- (a) 75 (b) 80
(c) 90 (d) 70

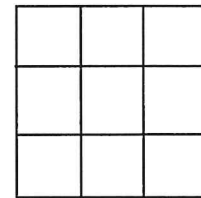
79. $(25/5) + (5 \times 5) - 13 = ?$

- (a) 13 (b) 27
(c) 17 (d) 7


80. दिये गये चित्र में चौकोर की कुल संख्या बताइए।

Find total no. of squares in the shown figure.

ನೀಡಲಾದ ಚಿತ್ರದಲ್ಲಿರುವ ಒಟ್ಟು ಚೌಕಗಳನ್ನು ಕಂಡುಹಿಡಿಯಿರಿ.



- (a) 14
(b) 9
(c) 4
(d) 13

	INDIAN SPACE RESEARCH ORGANISATION	SET A
	WRITTEN TEST FOR RECRUITMENT TO THE POST OF LVD-A/HVD-A/SCD-A, 2017	

PART D – (QUESTIONS 81 TO 100)

81. इसरो के प्रवर्तमान अध्यक्ष का नाम है:

- (a) वेंकैया नायडू
- (b) के. राधाकृष्णन
- (c) कस्तूरी रंगन
- (d) ए. एस. किरण कुमार

Name of ISRO's present chairman is :

- (a) Venkaiah Naidu
- (b) K. Radhakrishnan
- (c) Kasturi Rangan
- (d) A. S. Kiran Kumar

ISRO द ఈగిన ఛీరోమీన్ యారు?

- (a) వేంకయ్య నాయ్దు
- (b) కే. రాధాకృష్ణన్
- (c) కస్తూరి రంగన్
- (d) ఎ.ఎస్. కిరణ్ కుమార్

82. भारत की प्रथम बोलती फिल्म (चलचित्र) का नाम है:


- (a) कागज़ के फूल
- (b) आलम आरा
- (c) पुष्पक
- (d) मुग़ल-ए-आज़म

Name of first talkie movie of India is :

- (a) Kagaz ke Phool
- (b) Alam Ara
- (c) Pushpak
- (d) Mughal-E-Aazam

భారతద మొదల వాక్-చలనచిత్రం దేసరు :

- (a) కాగజ్ కే ఫూల్
- (b) ఆలం ఆరా
- (c) పుష్పక్
- (d) ముఘల్-ఎ-ఆఝామ్

	INDIAN SPACE RESEARCH ORGANISATION	SET A
	WRITTEN TEST FOR RECRUITMENT TO THE POST OF LVD-A/HVD-A/SCD-A, 2017	

83. 'जय जवान जय किसान' का नारा किसने दिया?

- (a) सुभाषचंद्र बोस (b) जवाहरलाल नेहरू
(c) लाल बहादुर शास्त्री (d) महात्मा गांधी

Who gave the slogan "Jay Jawan, Jay Kisan"?

- (a) Subhashchandra Bose (b) Jawaharlal Nehru
(c) Lal Bahadur Shastri (d) Mahatma Gandhi

"ಜೈ ಜವಾನ್, ಜೈ ಕಿಸಾನ್" ಎಂಬ ಘೋಷಣೆ ನೀಡಿದವರು :

- (a) ಸುಭಾಷ್‌ಚಂದ್ರ ಬೋಸ್ (b) ಜವಾಹರಲಾಲ್ ನೆಹರೂ
(c) ಲಾಲ್ ಬಹದೂರ್ ಶಾಸ್ತ್ರಿ (d) ಮಹಾತ್ಮಾ ಗಾಂಧಿ

84. 'गेट वे ऑफ इन्डिया' कहाँ स्थित है?

- (a) आगरा (b) दिल्ली
(c) हैदराबाद (d) मुंबई

Where is 'Gate way of India'?

- (a) Agra (b) Delhi
(c) Hyderabad (d) Mumbai

"गेट वे ऑफ इन्डिया" ಎಲ್ಲಿದೆ?

- (a) ಆಗ್ರಾ (b) ದೆಹಲಿ
(c) ಹೈದರಾಬಾದ್ (d) ಮುಂಬೈ

85. इसरो का पूरा नाम है:


- (a) भारतीय अंतरिक्ष अनुसंधान संगठन
(b) भारतीय सामाजिक अनुसंधान संगठन
(c) भारतीय उपग्रह अनुसंधान संगठन
(d) भारतीय समुद्र अनुसंधान संगठन

Full form of ISRO is :

- (a) Indian Space Research Organisation
(b) Indian Social Research Organisation
(c) Indian Satellite Research Organisation
(d) Indian Sea Research Organisation

ISRO ದ ಪೂರ್ಣರೂಪ :

- (a) Indian Space Research Organisation
(b) Indian Social Research Organisation
(c) Indian Satellite Research Organisation
(d) Indian Sea Research Organisation

	INDIAN SPACE RESEARCH ORGANISATION	SET A
	WRITTEN TEST FOR RECRUITMENT TO THE POST OF LVD-A/HVD-A/SCD-A, 2017	

86. हमारे देश का स्वतंत्रता दिवस है:

- (a) 26 जनवरी (b) 15 अगस्त
(c) 2 अक्टूबर (d) 30 जनवरी

Our country's Independence Day is :

- (a) 26 January (b) 15 August
(c) 2 October (d) 30 January

ನಮ್ಮ ದೇಶದ ಸ್ವಾತಂತ್ರ್ಯ ದಿನ :

- (a) 26 ಜನವರಿ (b) 15 ಆಗಸ್ಟ್
(c) 2 ಅಕ್ಟೋಬರ್ (d) 30 ಜನವರಿ

87. ओलिम्पिक चिह्न (सिम्बोल) में कितने चक्र (रिंग) हैं?

How many rings are there in Olympic symbol?

ಒಲಂಪಿಕ್ ಚಿಹ್ನೆಯಲ್ಲಿ ಎಷ್ಟು ರಿಂಗ್‌ಗಳಿವೆ?

- (a) 4 (b) 7
(c) 5 (d) 6

88. 8, 9, 0 और 1 के अंकों से बननेवाली सबसे बड़ी संख्या है:

Highest number that can be made from the digits 8, 9, 0 and 1 is :

ಅಂಕ 8, 9, 0 ಮತ್ತು 1 ರಿಂದ ರಚಿಸಬಹುದಾದ ಅತಿದೊಡ್ಡ ಸಂಖ್ಯೆ :

- (a) 8901 (b) 9801
(c) 8910 (d) 9810

89. इनमें से कौन 'चेस' के साथ जुड़ा हुआ है?


- (a) अभिनव बिंद्रा (b) विश्वनाथ आनंद
(c) हार्दिक पंड्या (d) युवराज सिंह

Who is associated with 'chess'?

- (a) Abhinav Bindra (b) Vishwanath Anand
(c) Hardik Pandya (d) Yuvraj Singh

"ಚೆಸ್"ನೊಂದಿಗೆ ಸಂಬಂಧ ಹೊಂದಿದವರು :

- (a) ಅಭಿನವ್ ಬಿಂದ್ರಾ (b) ವಿಶ್ವನಾಥ್ ಆನಂದ್
(c) ಹಾರ್ದಿಕ್ ಪಾಂಡ್ಯಾ (d) ಯುವರಾಜ್ ಸಿಂಗ್

	INDIAN SPACE RESEARCH ORGANISATION	SET A
	WRITTEN TEST FOR RECRUITMENT TO THE POST OF LVD-A/HVD-A/SCD-A, 2017	

90. इनमें से टायर के हवा के दबाव की इकाई कौन सी है?

Among following, which is the unit of air pressure of tyre?

ಇವುಗಳಲ್ಲಿ, ಟಯರ್‌ನ ಏರ್ ಪ್ರೆಶರ್‌ನ ಯೂನಿಟ್ :

- | | |
|---------|---------------------|
| (a) psi | (b) asi |
| (c) sip | (d) mm ² |

91. हमारा राष्ट्रीय खेल है:

- | | |
|-------------|-------------|
| (a) क्रिकेट | (b) फूटबोल |
| (c) हॉकी | (d) वॉलीबॉल |

Our national game is :

- | | |
|-------------|----------------|
| (a) Cricket | (b) Football |
| (c) Hockey | (d) Volleyball |

ನಮ್ಮ ರಾಷ್ಟ್ರೀಯ ಕ್ರೀಡೆ :

- | | |
|--------------|---------------|
| (a) ಕ್ರಿಕೆಟ್ | (b) ಫುಟ್‌ಬಾಲ್ |
| (c) ಹಾಕಿ | (d) ವಾಲಿಬಾಲ್ |

92. हमारे राष्ट्रपिता का नाम है:

- | | |
|--------------------|-------------------------|
| (a) महात्मा गांधी | (b) सरदार पटेल |
| (c) जवाहरलाल नेहरू | (d) लाल बहादुर शास्त्री |

Name of our Father of Nation is :

- | | |
|----------------------|-------------------------|
| (a) Mahatma Gandhi | (b) Sardar Patel |
| (c) Jawaharlal Nehru | (d) Lal Bahadur Shastri |

ನಮ್ಮ ರಾಷ್ಟ್ರಪಿತ :

- | | |
|---------------------|--------------------------|
| (a) ಮಹಾತ್ಮಾ ಗಾಂಧಿ | (b) ಸರ್ದಾರ್ ಪಟೇಲ್ |
| (c) ಜವಾಹರಲಾಲ್ ನೆಹರೂ | (d) ಲಾಲ್ ಬಹದೂರ್ ಶಾಸ್ತ್ರಿ |

93. ISRO का मुख्यालय यहाँ पर है:


- | | |
|------------------|--------------|
| (a) दिल्ली | (b) बेंगलुरु |
| (c) त्रिवेन्द्रम | (d) चेन्नई |

ISRO Headquarters is situated at :

- | | |
|----------------|---------------|
| (a) Delhi | (b) Bengaluru |
| (c) Trivandrum | (d) Chennai |

ISRO ದ ಪ್ರಧಾನ ಕಛೇರಿ ಇರುವುದು :

- | | |
|------------------|--------------|
| (a) ದೆಹಲಿ | (b) ಬೆಂಗಳೂರು |
| (c) ತಿರುವನಂತಪುರಂ | (d) ಚೆನ್ನೈ |

	INDIAN SPACE RESEARCH ORGANISATION	SET A
	WRITTEN TEST FOR RECRUITMENT TO THE POST OF LVD-A/HVD-A/SCD-A, 2017	

94. भारत में आपात स्थिति में सबसे बड़ा सेवा प्रबंधक है:

Largest emergency service provider in India is :

ಭಾರತದಲ್ಲಿ ಅತಿದೊಡ್ಡ ಏಮರ್ಜೆನ್ಸಿ ಸೇವೆ ನೀಡುವ ಸಂಸ್ಥೆ :

- | | |
|--------------|--------------|
| (a) GVK-EMRI | (b) EVK-GMRI |
| (c) GMK-VMRI | (d) EMK-VMRI |

95. एमब्युलंस बुलाने के लिए नंबर है:

To call ambulance, the number is :

ಆಂಬುಲೆನ್ಸ್‌ಗೆ ಕರೆಮಾಡಲು ಸಂಖ್ಯೆ :

- | | |
|---------|---------|
| (a) 100 | (b) 108 |
| (c) 180 | (d) 101 |

96. मध्य प्रदेश की राजधानी है:

- | | |
|------------|---------------|
| (a) इंदौर | (b) भुवनेश्वर |
| (c) जबलपुर | (d) भोपाल |

Capital city of Madhya Pradesh is :

- | | |
|--------------|-----------------|
| (a) Indore | (b) Bhubneshwar |
| (c) Jabalpur | (d) Bhopal |

ಮಧ್ಯಪ್ರದೇಶದ ರಾಜಧಾನಿ ನಗರ :

- | | |
|---------------|---------------|
| (a) ಇಂದೋರ್ | (b) ಭುವನೇಶ್ವರ |
| (c) ಜಬಲ್‌ಪುರ್ | (d) ಭೋಪಾಲ್ |

97. इनमें से कौन सा राज्य गुजरात से जुड़ा हुआ है?


- | | |
|----------------|-----------------|
| (a) महाराष्ट्र | (b) बिहार |
| (c) पंजाब | (d) आंध्रप्रदेश |

Which of the following state is connected to Gujarat?

- | | |
|-----------------|--------------------|
| (a) Maharashtra | (b) Bihar |
| (c) Punjab | (d) Andhra Pradesh |

ಗುಜರಾತ್‌ನು ಸಂಪರ್ಕಿಸಿಕೊಂಡಿರುವ ರಾಜ್ಯ ಯಾವುದು?

- | | |
|----------------|-----------------|
| (a) ಮಹಾರಾಷ್ಟ್ರ | (b) ಬಿಹಾರ್ |
| (c) ಪಂಜಾಬ್ | (d) ಆಂಧ್ರಪ್ರದೇಶ |

	INDIAN SPACE RESEARCH ORGANISATION	SET A
	WRITTEN TEST FOR RECRUITMENT TO THE POST OF LVD-A/HVD-A/SCD-A, 2017	

98. मुन्शी प्रेमचंद कौन थे?

- (a) चित्रकार (b) नृत्यकार
(c) लेखक (d) खिलाडी

Who was Munshi Premchand?

- (a) Painter (b) Dancer
(c) Writer (d) Sportsman

ಮುನ್ಶಿ ಪ್ರೇಮಚಂದ್ ಯಾರು?

- (a) ಪೈಂಟರ್ (b) ನೃತ್ಯಪಟು
(c) ಲೇಖಕ (d) ಕ್ರೀಡಾಳು

99. साईना नेहवाल किस खेल के साथ जुड़ी है?

- (a) क्रिकेट (b) लोन टेनिस
(c) मुक्केबाजी (बोक्सिंग) (d) बेडमिंटन

Saina Nehwal is associated with which sports?

- (a) Cricket (b) Lawn tennis
(c) Boxing (d) Badminton

ಸೈನಾ ನೇಹವಾಲ್ ಯಾವ ಕ್ರೀಡೆಗೆ ಸಂಬಂಧಿಸಿದ್ದಾರೆ?

- (a) ಕ್ರಿಕೆಟ್ (b) ಲಾನ್ ಟೆನ್ನಿಸ್
(c) ಬಾಕ್ಸಿಂಗ್ (d) ಬ್ಯಾಡ್ಮಿಂಟನ್

100. हमारे राष्ट्रसि का नाम है:


- (a) अब्दुल हमीद अंसारी (b) रामनाथ कोविंद
(c) नरेन्द्र मोदी (d) प्रणब मुखर्जी

Name of our President is


- (a) Abdul Hameed Ansari (b) Ram Nath Kovind
(c) Narendra Modi (d) Pranab Mukherjee

ನಮ್ಮ ರಾಷ್ಟ್ರಪತಿಯವರ ಹೆಸರು :

- (a) ಅಬ್ದುಲ್ ಹಮೀದ್ ಅನ್ಸಾರಿ (b) ರಾಮ್ ನಾಥ್ ಕೋವಿಂದ್
(c) ನರೇಂದ್ರ ಮೋದಿ (d) ಪ್ರಣಬ್ ಮುಖರ್ಜಿ

 इसरो ISRO	INDIAN SPACE RESEARCH ORGANISATION	SET A
	WRITTEN TEST FOR RECRUITMENT TO THE POST OF LVD-A/HVD-A/SCD-A, 2017	

SPACE FOR ROUGH WORK

 इसरो ISRO	INDIAN SPACE RESEARCH ORGANISATION	SET A
	WRITTEN TEST FOR RECRUITMENT TO THE POST OF LVD-A/HVD-A/SCD-A, 2017	

SPACE FOR ROUGH WORK



INDIAN SPACE RESEARCH ORGANISATION

WRITTEN TEST FOR RECRUITMENT TO THE POST OF
LVD-A/HVD-A/SCD-A, 2017

SET
A

Instructions to the candidate

6. प्रश्न के लिए बहुल उत्तर गलत उत्तर माना जाएगा।
Multiple answers for a question will be regarded as a wrong answer
ಯಾವುದಾದರೂ ಪ್ರಶ್ನೆಗೆ ಅನೇಕ ಉತ್ತರಗಳನ್ನು ನೀಡಿದರೆ, ಅದನ್ನು ತಪ್ಪು ಉತ್ತರ ಎಂದು ಪರಿಗಣಿಸಲಾಗುವುದು.
7. यद्यपि परीक्षा वेग की अपेक्षा परिशुद्धता पर जोर देती है यह आवश्यक है कि अपने समय का यथासात्व प्रभावी ढंग से उपयोग करें।
Although the test stresses on accuracy more than speed, it is important for you to use your time as effectively as possible.
ಪರೀಕ್ಷೆಯು ವೇಗಕ್ಕಿಂತಲೂ ಸ್ಪಷ್ಟತೆಗೆ ಹೆಚ್ಚು ಒತ್ತು ನೀಡುವುದರಿಂದ, ಸಾಧ್ಯವಾದಷ್ಟು ಮಟ್ಟಿಗೆ ನೀವು ನಿಮ್ಮ ಸಮಯವನ್ನು ಪರಿಣಾಮಕಾರಿಯಾಗಿ ಬಳಸುವುದು ಅತ್ಯಂತ ಪ್ರಮುಖವಾಗಿರುತ್ತದೆ.
8. जो प्रश्न आप के लिए बहुत कठिन हो उस पर अपना समय व्यर्थ न करें। आप अन्य प्रश्नों के उत्तर लिखें और उसके पश्चात कठिन प्रश्नों का उत्तर देने का प्रयास करें।
Do not waste time on questions, which are too difficult for you. You can go on to other questions and come back to the difficult ones later.
ನಿಮಗೆ ಅತ್ಯಂತ ಕಠಿಣವಾಗಿರುವ ಪ್ರಶ್ನೆಗಳ ಮೇಲೆ ಹೆಚ್ಚು ಗಮನವನ್ನು ಕೊಟ್ಟು ಸಮಯವನ್ನು ಕಳೆಯಬೇಡಿ. ನೀವು ಇತರ ಪ್ರಶ್ನೆಗಳನ್ನು ಉತ್ತರಿಸಿ ತದನಂತರ ಕಠಿಣ ಪ್ರಶ್ನೆಗಳನ್ನು ಉತ್ತರಿಸಬಹುದು.
9. प्रश्न पुस्तिकाओं के दहिने कोने पर **A** या **B** या **C** या **D** या **E** अंकित है जिन को OMR पत्र के बाक्स में लिखकर उचित रूप से बबिल करना अनिवार्य है। ऐसा न करने पर उत्तर पुस्तिकाओं का मूल्यांकन नहीं किया जाएगा।
Question booklets have been marked with A or B or C or D or E on the right hand top corner, which is mandatory to be written on the OMR sheet in the box and bubble appropriately, failing which, the answer sheet will not be evaluated.
ಪ್ರಶ್ನೆ ಪುಸ್ತಕದ ಬಲಭಾಗದ ಮೇಲ್ಮುನೆಯಲ್ಲಿ **A** ಅಥವಾ **B** ಅಥವಾ **C** ಅಥವಾ **D** ಅಥವಾ **E** ಎಂದು ಗುರುತಿಸಲಾಗಿದೆ. ಇದನ್ನು OMR ಹಾಳೆಯಲ್ಲಿ ನೀಡಲಾದ ಬಾಕ್ಸ್‌ನಲ್ಲಿ ಮತ್ತು ವೃತ್ತದೊಳಗೆ ಬರೆಯುವುದು ಕಡ್ಡಾಯವಾಗಿರುತ್ತದೆ, ತಪ್ಪಿದಲ್ಲಿ ಉತ್ತರ ಹಾಳೆಯನ್ನು ಮೌಲ್ಯಮಾಪನ ಮಾಡಲಾಗುವುದಿಲ್ಲ.
10. पुस्तिका में उपलब्ध स्थान का यदि आवश्यक हो तो रफ़ वर्क के लिए उपयोग कर सकते हैं। अलग पर्ची नहीं प्रदान की जाएगी।
Space available in the booklet could be used for rough work, if required. No separate sheet will be provided.
ಪ್ರಶ್ನೆ ಪುಸ್ತಕಿಯಲ್ಲಿ ಲಭ್ಯವಿರುವ ಸ್ಥಳವನ್ನು ಅಗತ್ಯವಿದ್ದರೆ ರಫ್ ಕೆಲಸಕ್ಕಾಗಿ ಬಳಸಿಕೊಳ್ಳಬಹುದು. ಪ್ರತ್ಯೇಕ ಹಾಳೆಯನ್ನು ನೀಡಲಾಗುವುದಿಲ್ಲ.
11. उपस्थिति पर्ची पर हस्ताक्षर करने से पहले प्रत्याशियों को पुस्तिका कोड़ लिखना चाहिए। प्रत्याशियों को अपने नाम के सामने ही हस्ताक्षर करना चाहिए।
Before signing the attendance sheet, the candidate should write the Booklet Code in the attendance sheet. Candidates should sign against THEIR names only.
ಹಾಜರಿ ಹಾಳೆಯಲ್ಲಿ ಹಸ್ತಾಕ್ಷರ ಮಾಡುವುದಕ್ಕೆ ಮೊದಲು, ಅಭ್ಯರ್ಥಿಯು ಪ್ರಶ್ನೆ ಪುಸ್ತಿಕೆಯ ಕೋಡ್‌ನ್ನು ಹಾಜರಿ ಹಾಳೆಯಲ್ಲಿ ಬರೆಯತಕ್ಕದ್ದು. ಅಭ್ಯರ್ಥಿಗಳು ತಮ್ಮ ಹೆಸರಿನ ಮುಂದೆ ಮಾತ್ರವೇ ಹಸ್ತಾಕ್ಷರ ಮಾಡತಕ್ಕದ್ದು.
12. परीक्षा के अंत में (1) फोटो चिपकाए गए लिखित परीक्षा कॉल पत्र (2) OMR उत्तर पत्र निरीक्षक के पास वापस किया जाना चाहिए और किसी भी परिस्थिति में अपने साथ ले जाना नहीं चाहिए।
At the end of the test (1) Written Test Call Letter(s) with photograph and (2) OMR Answer Sheet shall be returned to the Invigilator and shall not be carried by the candidate under any circumstances.
ಪರೀಕ್ಷೆಯು ಮುಗಿದ ನಂತರ (1) ಫೋಟೋ ಅಂಟಿಸಿದ ಲಿಖಿತ ಪರೀಕ್ಷಾ ಕರ ಪತ್ರ(ಗಳನ್ನು) ಮತ್ತು (2) OMR ಉತ್ತರ ಹಾಳೆಯನ್ನು ಪರೀಕ್ಷಾ ನಿರೀಕ್ಷಕರಿಗೆ ಹಿಂದಿರುಗಿಸತಕ್ಕದ್ದು ಮತ್ತು ಯಾವುದೇ ಪರಿಸ್ಥಿತಿಯಲ್ಲೂ ಅಭ್ಯರ್ಥಿಯು ಅದನ್ನು ತೆಗೆದುಕೊಂಡು ಹೋಗಬಾರದು.
13. प्रत्याशियों को उनके OMR उत्तर पत्र को प्रत दि जायेगी जो उन्हें भविष्यकालीन संदर्भों के लिये संभलकर रखनी चाहिये।
Candidates will be given copy of their OMR answer sheet, which should be carefully retained by the candidates for all future references.
ಅಭ್ಯರ್ಥಿಗಳಿಗೆ ಅವರ OMR ಉತ್ತರ ಹಾಳೆಯ ಪ್ರತಿಲಿಪಿಯನ್ನು ನೀಡಲಾಗುವುದು, ಅದನ್ನು ಅಭ್ಯರ್ಥಿಗಳು ಜಾಗರೂಕತೆಯಿಂದ ಮುಂದಿನ ಎಲ್ಲಾ ಸಂದರ್ಭಗಳಿಗಾಗಿ ತಮ್ಮೊಂದಿಗೆ ಕಾಯ್ದಿರಿಸಿಕೊಳ್ಳತಕ್ಕದ್ದು.
